

큰★별쌤의 완전 정복 국사 기출 유형 분석 문제지

제 4 교시

사회탐구 영역(국사)

성명:

수험 번호

고대의 정치

전국 고 1, 2 연합 모의 고사 문제

1. 삼화는 고대 국가의 중앙집권화를 묘사한 것이다. 이에 적절하지 않은 요소는?



2. 다음 사실들을 통해 추론한 내용으로 옳은 것은?(166)

- 각 부의 부족적 성격이 행정적 성격으로 바뀌었다.
- 관등제가 정비됨에 따라 각 부의 귀족들과 그 밑에 있던 관리들은 왕의 신하가 되었다.
- 왕의 칭호가 연맹장의 의미를 가진 이사금에서 대군장을 뜻하는 마립간으로 바뀌었다.

- ① 중앙 집권적인 고대 국가가 형성되었다.
- ② 우세한 집단의 족장을 왕으로 추대하였다.
- ③ 귀족 세력을 숙청하고 왕권을 전제화하였다.
- ④ 정치 권력과 경제력을 가진 족장이 등장하였다.
- ⑤ 왕위 계승은 부자 상속에서 형제 상속으로 바뀌었다.

3. 다음은 국가의 발전 단계를 나타낸 것이다. (가)에 대한 설명으로 옳은 것을 <보기>에서 모두 고른 것은?(266)

군장 사회 ⇨ 연맹 왕국 ⇨ (가)

<보 기>

- ㄱ. 율령을 반포하여 통치 체제를 정비하였다.
- ㄴ. 우세한 집단의 족장을 왕으로 추대하였다.
- ㄷ. 집단의 통합을 강화하기 위하여 불교를 받아들였다.
- ㄹ. 족장들이 중앙 귀족으로 편입되어 왕권에 복속되었다.

- ① ㄱ, ㄷ ② ㄴ, ㄹ ③ ㄱ, ㄷ, ㄹ
- ④ ㄴ, ㄷ, ㄹ ⑤ ㄱ, ㄴ, ㄷ, ㄹ

4. 그림 (가)에 들어갈 내용으로 가장 적절한 것은?(20709)

○ 학습 목표 : (가) 을(를) 설명할 수 있다.

<조별 발표 순서>

1조 : 고구려 왕위 계승 방식의 변화

2조 : 백제 관등제의 정비 내용

3조 : 신라 양호의 변천 내용과 그 의미

4조 : 삼국의 분교 수용 과정

○ 질의 및 응답

- ① 신분 제도의 특징
- ② 연맹 왕국의 성립 과정
- ③ 삼국의 문화 교류 내용
- ④ 중앙 집권 국가의 성격
- ⑤ 삼국 간 항쟁의 전개 과정

5. (가)~(다)는 고대 국가의 성립 과정을 정리한 것이다. 이에 관한 설명으로 옳은 것은? [3점](2511)

- (가) 농경의 발달과 금속제 무기의 사용으로 정복 활동이 활발해지고, 부와 권력을 가진 족장(군장)이 출현하였다.
- (나) 기원전 4세기경 철기가 보급되면서 성장한 여러 소국들은 그 중 우세한 집단의 족장을 왕으로 삼았다.
- (다) 율령을 반포하여 통치 체제를 정비하였고, 불교를 받아들여 집단의 통합을 강화하였다.

- ① (가) : 정복 과정에서 성장한 경제력과 군사력을 바탕으로 왕권이 더욱 강화되었다.

11. 다음 사료와 관련이 있는 사건은?

◦ 신기한 계책은 천문에 통달했고
묘한 계략은 땅의 이치를 알았다.
전투마다 이겨 공이 이미 높았으니
만족한 줄 알았으면 돌아가는 것이 어떠하리.
- 수 나라 장수 우중문에게 보내는 시 -

◦ 군사가 반쯤 강을 건너려 할 때 아군이 뒤에서 후군을 공격하자, …(중략)… 처음 우문술 등의 구군(九軍)이 요동에 왔을 때에는 무릇 30만 5천이었는데 지금 요동성에 돌아올 때에는 오직 2천 7백이었다.
- 삼국사기 -

- ① 살수 대첩 ② 귀주 대첩 ③ 기벌포 전투
④ 매소성 전투 ⑤ 안시성 전투

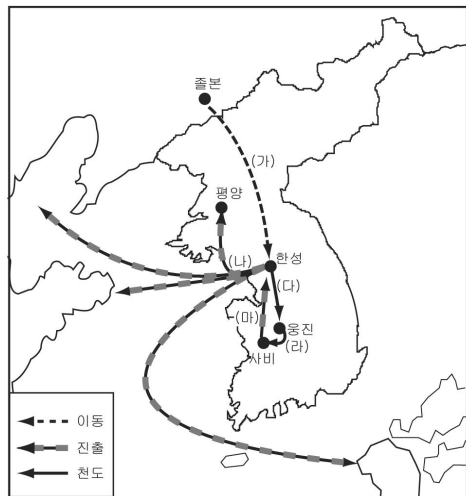
12. ㉠, ㉡, ㉢은 지도의 빗금 친 지역을 차지했던 국가들이다. 알맞게 연결한 것은?



국가(시대순)
마한
㉠
㉡
㉢
후고구려
고려
조선
대한민국

- ㉠ ㉡ ㉢
- ① 백 제 - 고구려 - 신 라
② 고구려 - 백 제 - 신 라
③ 백 제 - 신 라 - 고구려
④ 신 라 - 백 제 - 고구려
⑤ 고구려 - 신 라 - 백 제

13. 지도에 나타난 각 화살표와 관련된 설명으로 잘못된 것은?



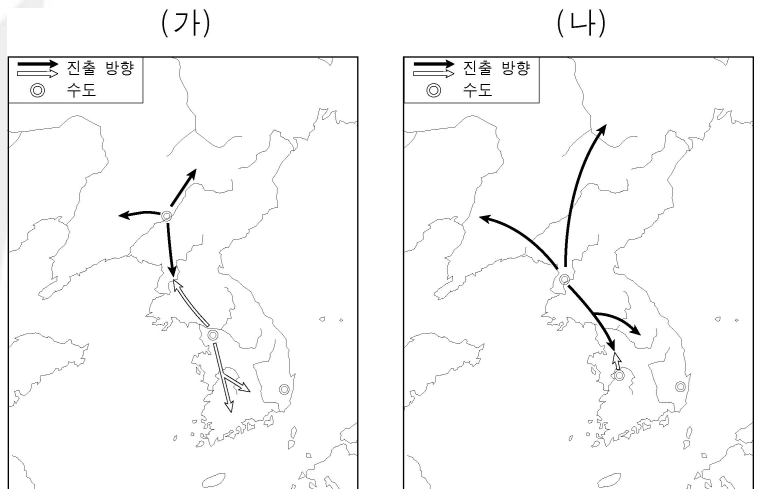
- ① (가) - 백제는 고구려계의 유이민 세력에 의해 건국되었다.
② (나) - 백제는 고구려와 대결하여 그 왕을 전사시켰으며 활발하게 해외로 진출하였다.
③ (다) - 고구려의 공격으로 수도가 함락된 후, 백제는 왕권이 약화되고 귀족 세력이 국정을 주도하였다.
④ (라) - 이를 계기로 백제는 국호를 남부여로 고치고 중앙관청과 지방 제도를 정비하였다.
⑤ (마) - 백제는 고구려에 빼앗겼던 한강 유역을 회복한 후 북한산비를 세웠다.

14. 자료의 밑줄 친 (가)에 들어갈 내용으로 옳은 것은? [3점](10703)

왕은 체격이 크고 원대한 식견이 있었다고 할 정도로 정복군주로서의 역할을 잘 해냈다. 그는 남쪽으로 영산강 유역에 진출하여 마한 세력을 통합하고, 북쪽으로는 황해도 지역까지 진출하였다. 또한 그는 _____ (가)

- ① 중국의 요서, 산둥 지역으로 진출하였다.
② 당의 침략에 대비하여 천리장성을 쌓았다.
③ 수도를 사비로 옮기고 국호를 남부여로 고쳤다.
④ 남진 정책을 추진하여 중원 고구려비를 세웠다.
⑤ 당의 수군을 금강 하류 기벌포에서 크게 격파하였다.

15. 지도 (가), (나) 시기의 사실로 옳은 것은? [3점](20709)



- ① (가) - 고구려가 살수에서 수의 대군을 물리쳤다.
② (가) - 왜가 수군을 보내 백제 부흥군을 지원하였다.
③ (나) - 백제와 신라는 군사 동맹을 강화하였다.
④ (나) - 고구려가 신라에 침입한 왜군을 격퇴하였다.
⑤ (나) - 고구려가 당의 침략에 대비해 천리장성을 쌓았다.

16. ○○ 고등학교 역사반 학생들이 다음 자료를 읽고 토론하였다. 잘못된 의견을 제시한 학생은? [2점]


(가) 중국 길림성 통구에 위치한 이 비석에는 “신라가 사신을 보내 왕에게 말하기를, ‘왜인이 그 국경에 가득 차 성을 부수었으니, 노객은 백성된 자로서 왕에게 귀의하여 분부를 청한다’ 고 하였다. …… 10년 경자에 보병과 기병 5만을 보내, 신라를 구원하게 하였다”라는 내용이 기록되어 있다.

(나) 남한강 유역의 중원(현재 충주)에 위치한 이 비석에는 “신라왕이 신하와 함께 고구려 대사자 다우환노를 만나, 중원에 주둔하고 있던 고구려 사자 금노로 하여금 신라 국내의 여러 사람을 내지로 옮기게 하였다”라는 내용이 기록되어 있다.

* 노객 : 신라왕이 자신을 낮추어 부른 말

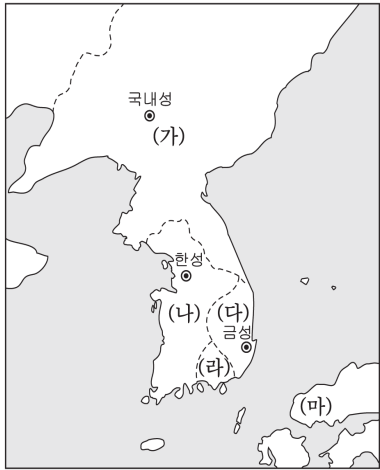
- ① 지혜 - (가)는 고구려가 신라에 영향력을 행사하고 있었음을 나타내고 있어.
- ② 용남 - (나)는 장수왕의 남하 정책과 깊은 연관이 있어.
- ③ 현석 - (가)는 왜가 고구려를 견제하기 위해 중국과 교류하고 있음을 보여 주고 있어.
- ④ 건환 - (나)는 백제와 신라가 동맹을 맺게 되는 이유를 짐작할 수 있어.
- ⑤ 아름 - (가)와 (나)는 한반도에서 고구려가 주도권을 장악하고 있음을 잘 보여 주고 있어.

17. 다음은 삼국 간의 동맹 관계를 그림으로 나타낸 것이다. 이 시기의 역사적 상황으로 옳은 것은? [3점]



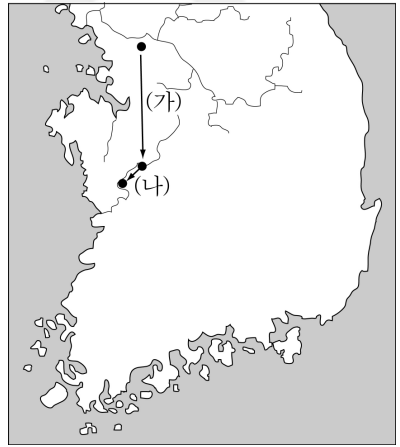
- ① 고구려는 돌궐과 연합하여 수(隋)를 견제하였다.
- ② 신라는 낙동강 동쪽 진한 지역을 거의 차지했다.
- ③ 백제를 지원하던 왜(倭)가 백강 입구에서 패하였다.
- ④ 고구려는 평양으로 천도하고 한강 이남까지 진출하였다.
- ⑤ 백제는 마한의 잔여 세력을 정복하여 남해안에 이르렀다.

18. 지도와 같은 형세를 이루었던 시기의 (가)~(마) 국가에 대한 역사적 사실로 옳은 것은? [3점] (20711)



- ① (가) - 남북조와 각각 교류하면서 중국을 견제하였다.
- ② (나) - 중앙 집권적 체제 정비 과정에서 서기를 편찬하였다.
- ③ (다) - 병부를 설치하고 건원이라는 연호를 사용하였다.
- ④ (라) - 고령의 대가야를 맹주로 하여 연맹을 이루었다.
- ⑤ (마) - 백제 부흥군을 지원하기 위하여 백강 입구까지 왔다.

19. 지도의 (가), (나)와 같이 천도하게 된 배경을 올바르게 짝지은 것은? [3점](163)



- | | |
|---|---|
| <p>(가)</p> <ul style="list-style-type: none"> ① 백제의 마한 지역 정복 ② 광개토 대왕의 왜구 격퇴 ③ 광개토 대왕의 왜구 격퇴 ④ 고구려의 한강 유역 점령 ⑤ 고구려의 한강 유역 점령 | <p>(나)</p> <ul style="list-style-type: none"> 성왕의 국가 중흥 노력 백제의 마한 지역 정복 신라의 한강 유역 점령 성왕의 국가 중흥 노력 신라의 한강 유역 점령 |
|---|---|

20. (가), (나)의 내용과 관련하여 그 결과로 옳지 않은 것은? [3점](266)

(가) 신라가 사신을 보내 왕에게 말하기를, “왜인이 그 국경에 가득 차 성을 부수었으니, 노객은 백성된 자로서 왕에게 귀의하여 분부를 청한다.”고 하였다. …(중략)… 10년(400) 경자에 보병과 기병 5만을 보내 신라를 구원하게 하였다.

- 광개토 대왕릉 비문 -

(나) 신라 왕이 신하와 함께 고구려 대사자 다우환노를 만나, 중원에 주둔하고 있던 고구려 사자 금노로 하여금 신라 국내의 여러 사람을 내지로 옮기게 하였다.

- 중원 고구려 비문 -



- ① (가) - 신라는 고구려의 간섭을 받게 되었다.
- ② (가) - 전기 가야 연맹이 해체되어 세력이 약화되었다.
- ③ (나) - 신라와 백제의 동맹이 결렬되었다.
- ④ (나) - 고구려가 삼국 항쟁의 주도권을 장악하게 되었다.
- ⑤ (나) - 백제는 웅진으로 천도하면서 대외 팽창이 위축되었다.

- ① 신라는 9서당을 조직하여 중앙군의 핵심으로 삼았다.
- ② 고구려는 국력을 바탕으로 수의 요서 지방을 공격하였다.
- ③ 백제는 신라와 동맹을 강화하고 중흥의 발판을 마련하였다.
- ④ 가야는 김해 지방의 금관가야를 중심으로 전기 가야 연맹을 이룩하였다.
- ⑤ 왜의 수군이 백제 영토 회복을 지원하기 위하여 백강 입구까지 진출하였다.

21. 다음 사실이 있었던 시기의 삼국 상황으로 옳은 것은? [3점](2609)

왕 15년, 평양으로 천도하였다.

42년, 군사를 파견하여 신라의 북방을 공격하였다.

56년, 말갈 병력 1만을 이끌고 신라의 실직주성(지금의 삼척)을 쳐 빼앗았다.

57년, 남쪽 변방이 백제 군사의 공격을 받았다.

- ① 고구려가 수의 침략을 물리쳤다.
- ② 백제가 국호를 남부여로 고쳤다.
- ③ 신라가 한강 유역을 차지하였다.
- ④ 백제와 신라가 동맹을 체결하였다.
- ⑤ 신라가 고령의 대가야를 정복하였다.

23. 다음 상황이 전개된 시기를 아래 연표에서 고르면?(159)

(눌지마립간) 18년 2월, 백제왕이 좋은 말 두 필을 보내왔다. 9월, 백제왕이 다시 흰 매를 보내 왔다. 10월, 왕이 황금과 명주로 백제에 답례하였다. …… 39년 10월, 고구려가 백제를 침범하므로 왕이 군사를 보내 구원하였다.

(가)	(나)	(다)	(라)	(마)
371	427	553		648
백제 평양성 공격	고구려 평양 천도	신라 한강유역 확보	당과 동맹 체결	신라

- ① (가) ② (나) ③ (다) ④ (라) ⑤ (마)

22. 지도는 삼국의 형세를 나타낸 것이다. 이 시기의 사실로 옳은 것은? [3점] (2511)

24. 다음 두 자료를 통하여 추론할 수 있는 역사적 사실을 <보기>에서 고른 것은? [3점](156)



신라가 사신을 보내 왕에게 말하기를, “왜인이 그 국경에 가득 차 성(城)을 부수었으니, 노객은 백성된 자로서 왕에게 귀의하여 분부를 청한다.”고 하였다. …(중략)… 10년(400) 경자에 보병과 기병 5만을 보내 신라를 구원하게 하였다.

- 광개토 대왕릉 비문 -

<보 기>

ㄱ. 나제 동맹의 결성
 ㄴ. 신라와 고구려의 우호 관계
 ㄷ. 백제의 적극적인 해외 진출
 ㄹ. 가야 연맹의 중심 세력 변화

- ① ㄱ, ㄴ ② ㄱ, ㄷ ③ ㄱ, ㄹ ④ ㄴ, ㄷ ⑤ ㄴ, ㄹ

25. 다음은 삼국 간의 세기별 전쟁 횟수에 관한 통계 자료이다.

구분 \ 시기	4세기	5세기	6세기	7세기
고구려 : 백제	17	4	11	1
고구려 : 신라		7	1	8
백제 : 신라		1	4	24

이 표의 내용을 바르게 분석한 것을 <보기>에서 고르면? [2점]

< 보 기 >

ㄱ. 4세기 - 고구려는 남하 정책을 추진하면서 백제와 자주 싸웠다.
 ㄴ. 5세기 - 나제 동맹의 영향으로 신라와 백제의 싸움이 거의 없었다.
 ㄷ. 6세기 - 고구려와 백제의 전쟁은 평양성 부근에서 많이 일어났다.
 ㄹ. 7세기 - 삼국 통일기로 삼국 간의 전쟁이 가장 많이 일어났다.

- ① ㄱ, ㄴ ② ㄱ, ㄷ ③ ㄱ, ㄹ
 ④ ㄴ, ㄹ ⑤ ㄷ, ㄹ

26. 다음 자료와 관련된 지역에서 볼 수 있었던 모습으로 적절한 것을 <보기>에서 모두 고른 것은? [3점](20706)

당 나라 고종이 소정방을 보내어 신라 김유신과 함께 백제를 공격하여 멸하고는 웅진 도독부를 두어 군병을 주둔시켰는데, 당 나라 군사가 철수하자 신라가 그 땅을 모두 점유하였다. 신문왕이 웅천주로 고쳐 도독을 두었고, 경덕왕이 웅주로 고쳤으며, 고려 태조 23년에 지금 이름으로 고쳤다. - 신증동국여지승람 -

<보 기>

ㄱ. 선사 - 사냥을 위해 주먹도끼를 만드는 구석기인
 ㄴ. 삼국 - 고구려의 남하에 밀려 천도를 단행한 백제 국왕
 ㄷ. 고려 - 병마사에게 군대의 배치 상황을 보고하는 장수
 ㄹ. 조선 - 무역소를 통해 여진과 교역하는 상인

- ① ㄱ, ㄴ ② ㄱ, ㄷ ③ ㄴ, ㄷ
 ④ ㄴ, ㄹ ⑤ ㄷ, ㄹ

27. 다음 자료와 관련된 국왕의 통치 시기에 있었던 사실로 옳은 것은?(20706)

여러 신하들이 아뢰기를, “시조가 창업한 이래로 나라 이름이 일정치 않아 …(중략)… 신들이 생각건대 신(新)은 덕업이 날로 새롭다는 뜻이요, 라(羅)는 사방을 망라한다는 뜻이니, 이것으로 국호를 삼는 것이 좋을 듯합니다. 또 생각건대 예부터 국가가 있는 이는 모두 제(帝)나 왕을 칭하였는데 …(중략)… 단지 방언으로 칭하여 존호를 정하지 않았습니다. 지금 여러 신하들은 한뜻으로 삼가 신라 국왕이란 존호를 올립니다.”라 하니 왕이 이에 따랐다. - 삼국사기 -

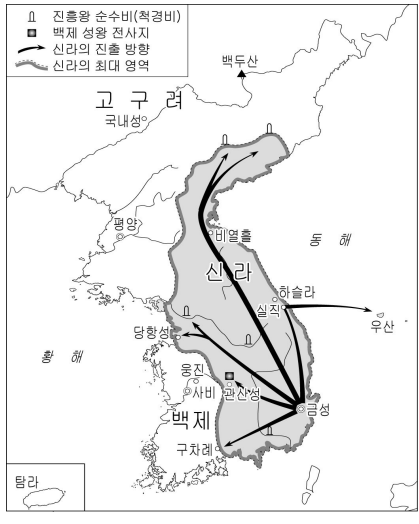
- ① 김씨에 의한 왕위 계승이 시작되었다.
 ② 행정 구역을 정비하고 우산국을 복속시켰다.
 ③ 율령 반포와 공복 제정을 통해 통치 질서를 확립하였다.
 ④ 인재 양성을 위해 화랑도를 국가적인 조직으로 개편하였다.
 ⑤ 최초의 진골 출신 왕이 정복 전쟁을 통해 왕권을 강화하였다.

28. 자료의 밑줄 친 ‘이 비석’과 거리가 먼 것은?(2609)

이 비석은 국왕이 자신의 영역을 순수(巡狩)한 것을 기념하여 세운 것으로서, 순경비 또는 척경비라고도 한다. 이를 통해 국왕은 자신의 영역에 대한 지배권을 대내외에 과시하였으며, 새로 정복한 지역의 민심을 수습하는 효과를 거두기도 하였다.

- ① (가) ② (나) ③ (다) ④ (라) ⑤ (마)

29. 신라의 영토가 지도와 같이 확장된 시기의 사실에 대한 탐구 활동으로 적절한 것을 <보기>에서 모두 고른 것은?(10706)



<보 기>

ㄱ. 호우명 그릇이 경주에서 출토된 의미를 탐구하였다.
 ㄴ. 북한산 순수비를 분석하여 신라의 한강 유역 진출을 알아보았다.
 ㄷ. 『삼국사기』에서 6세기 경 삼국의 대립 관계 기사를 찾아 분석하였다.
 ㄹ. 광개토 대왕릉 비문을 통하여 신라 해안에 침입한 왜구의 격퇴 사실을 파악하였다.

- ① ㄱ, ㄴ ② ㄱ, ㄷ ③ ㄴ, ㄷ
 ④ ㄴ, ㄹ ⑤ ㄷ, ㄹ

30. 다음과 관련 있는 국가에 대한 설명으로 옳은 것은?(2611)



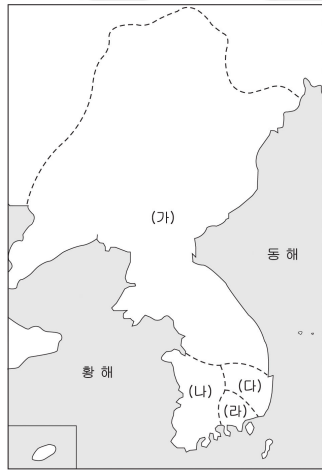
<김해 대성동 고분>



<고령 지산동 고분 출토 금관>

- ① 마립간이라는 왕호를 사용하였다.
 ② 한강을 중심으로 세력을 확장하였다.
 ③ 일본에 종이와 먹의 제조법을 전파하였다.
 ④ 낙랑과 규슈를 연결하는 중계 무역을 하였다.
 ⑤ 철기를 바탕으로 중앙 집권 국가로 발전하였다.

31. 지도와 같은 형세를 이루었던 시기의 (가) ~ (라) 국가에 대한 사실로 옳은 것은? [3점] (10711)



- ① (가) - 살수에서 수양제의 군대를 격파하였다.
 ② (나) - 관등제를 정비하고 관복제를 도입하였다.
 ③ (다) - 마립간이라는 왕호를 처음으로 사용하였다.
 ④ (라) - 대가야를 중심으로 후기 가야 연맹을 이루었다.
 ⑤ (나), (다), (라) - 중앙 집권 국가로 성장하였다.

32. 다음 글의 내용에서 추론할 수 있는 것과 같은 성격의 역사적 사실은? [1점]

◦ 고구려 미천왕은 낙랑군을 몰아냈다.
 ◦ 고구려는 ‘영락’, 신라는 ‘건원’, 발해는 ‘인안’, ‘대흥’ 등의 독자적인 연호를 사용하였다.

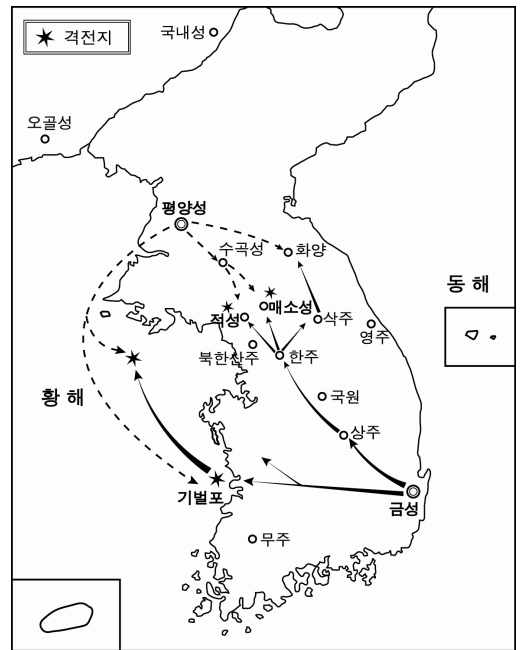
- ① 금관 가야는 가야 연맹을 주도하였다.
 ② 통일 신라는 9주 5소경을 설치하였다.
 ③ 백제는 중국의 남조와 활발한 교류를 유지하였다.
 ④ 고구려는 남진 정책으로 한강 유역을 차지하였다.
 ⑤ 신라는 당군을 격파하고 삼국 통일을 완성하였다.

33. 다음과 같은 사건이 일어난 이후에 전개된 역사적 사실은?

“신라가 우리 한강 이북의 땅을 빼앗아 군현을 삼았으니, 그곳의 우리 백성들이 심히 한탄하여 부모의 나라를 잊은 적이 없습니다. 원컨대 대왕(영양왕)께서는 어리석은 이 신하를 불초하다 하지 마시고 군사를 주신다면 한번 가서 반드시 우리 땅을 도로 찾아오겠습니다.” 하니 왕이 이를 허락하였다.
 -삼국사기 온달전-

- ① 고구려는 중국의 침입을 살수에서 격파하였다.
 ② 신라는 병부를 설치하여 군사력을 강화하였다.
 ③ 백제와 신라는 동맹을 맺고 고구려에 대항하였다.
 ④ 백제가 고구려의 평양을 공격하여 왕을 전사시켰다.
 ⑤ 고구려는 한강 상류 지역을 차지하고 중원 고구려비를 건립하였다.

34. 다음 지도를 이용하여 역사신문의 기사를 작성하려 한다. 기사의 제목으로 가장 적절한 것은?(1609)



- ① 진흥왕, 본격적인 영토 확장에 나서다.
 ② 신라, 당의 세력을 무력으로 축출하다.
 ③ 발해와 신라, 전면적인 무력 충돌을 벌이다.
 ④ 장수왕, 정복 전쟁의 기수를 남쪽으로 돌리다.
 ⑤ 고구려인들, 빼앗긴 국권을 되찾으려 일어서다.

35. 연표의 (가) 시기에 있었던 사실로 옳은 것은? [3

점](2611)

648년	660년	668년	676년
		(가)	

나·당 동맹 체결 사비성 함락 평양성 함락 삼국 통일

- ① 신라는 매소성에서 당군을 격파하였다.
- ② 당 태종은 고구려의 안시성을 공격하였다.
- ③ 왜는 백제를 지원하기 위하여 수군을 보냈다.
- ④ 백제는 신라를 견제하기 위하여 고구려와 연합하였다.
- ⑤ 고구려는 당의 침략에 대비하기 위하여 천리장성을 쌓았다.

36. 밑줄 친 내용을 뒷받침하는 사례로 적절하지 않은 것은? [3점](163)

신라는 무열왕의 직계 자손에 의해 왕권이 크게 강화되었다. 무열왕의 뒤를 이은 문무왕은 통일 전쟁을 승리로 이끌었다. 이를 바탕으로 신문왕은 여러 제도를 정비하여 전제 왕권을 확립하였다.

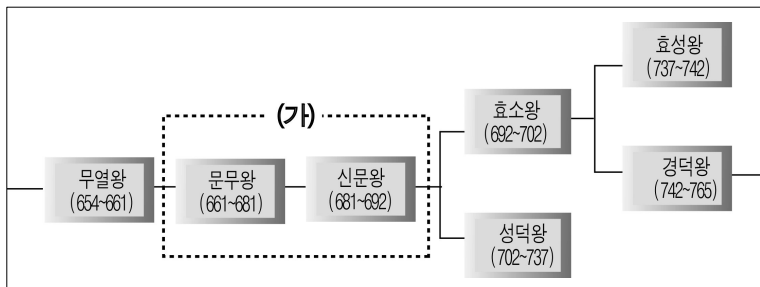
- ① 집사부를 중심으로 중앙 정치를 운영하였다.
- ② 귀족들에게 녹읍을 지급하여 반발을 무마하였다.
- ③ 전국을 9개의 주로 나누고 주 밑에 군과 현을 두었다.
- ④ 중앙군으로 9서당을 편성하고 지방에는 10정을 두었다.
- ⑤ 5개의 소경을 두어 일부 중앙 귀족을 옮겨 살게 하였다.

37. (가) 시기의 정치적 특징을 바르게 서술한 것은?(156)

654년	(가)	780년
진덕여왕 무열왕		혜공왕 선덕왕

- ① 귀족들의 왕위 쟁탈전이 전개되었다.
- ② 내물왕계가 왕위를 독점 세습하였다.
- ③ 6두품 세력이 전제 왕권을 뒷받침하였다.
- ④ 상대등이 시중을 대신하여 수상이 되었다.
- ⑤ 지방에 대한 중앙 정부의 통제력이 약화되었다.

38. 왕위 계승표의 (가) 시기의 사실로 옳은 것은?(259)



- ① 집사부의 장관이 상대등의 권한을 능가하였다.
- ② 왕권이 약화되어 귀족 연합적 정치가 운영되었다.
- ③ 도당 유학생 출신 6두품들이 정권에서 배제되었다.
- ④ 호족들이 지방에서 반독립적인 세력을 형성하였다.

- ⑤ 병부가 처음 설치되어 군사력이 국왕 중심으로 일원화되었다.

39. 그림의 국왕이 실시한 경제 정책으로 옳은 것은? [3점](1609)



- ① 전시과 제도를 실시하였다.
- ② 식읍의 지급 대상을 확대하였다.
- ③ 관료진을 지급하고 녹읍을 폐지하였다.
- ④ 저화와 조선통보를 주조하여 보급하였다.
- ⑤ 강화도 지방을 중심으로 간척 사업을 추진하였다.

40. (가)와 (나)에 해당하는 시기에 대한 설명으로 옳지 않은 것은?(369)

(가) 사료왕의 시호는 진지대왕이다. 태건 8년(576)에 왕위에 올랐다. 나라를 다스린지 4년 만에 정치가 문란하여 어지러워졌고 음란함에 빠져 귀족들이 그를 폐위시켰다.
 (나) 신문왕이 교서를 내렸다. "임금을 섬기는 법은 충성을 다하는 것이 근본이요, 신하의 도리는 두 마음을 갖지 않는 것이 으뜸이다. 병부령인 이찬 군관은 반역자 김흠돌 등과 관계하여 역모 사실을 알고도 일찍 말하지 아니하였다. 군관과 만아들은 스스로 목숨을 끊게 하고 온나라에 포고하여 두루 알게 하라."

- ① (가) 시기에는 화백 회의를 통하여 왕을 추대하기도 하였다.
- ② (가) 시기에는 지방 세력들이 중앙 정부에 반대하는 움직임을 보였다.
- ③ (나) 시기에는 왕권과 결탁한 6두품 세력이 부각되었다.
- ④ (나) 시기에는 왕명을 받들고 기밀을 관장하는 집사부 시중의 권한이 강화되었다.
- ⑤ (가)에서 (나)로의 변화는 통일 전쟁기에 국왕의 역할이 강화되면서 일어났다.

41. 다음 사료와 관련된 시기의 사실로 맞는 것은? [3점]

용이 대답하기를 “이 대나무로 피리를 만들어 불면 천하가 화평해질 것입니다. 지금 왕의 아버님(문무왕)께서 바다 가운데 큰 용이 되셨고, 김유신도 천신이 되셨습니다. 두 분 성인이 마음을 합하여 이같이 값으로 헤아릴 수 없는 큰 보물을 만들어 저를 시켜 바치는 것입니다.” ...(중략)... 이 피리를 불면 적병이 물러가고 병이 나왔다. 가뭄에는 비가 오고 장마가 개고 바람이 차고 파도가 그쳤다. 이 피리를 만파식적이라 부르고 국보로 삼았다.
- 삼국유사 -

- ① 화랑도를 공인하였다.
- ② 국호를 신라로 정하였다.
- ③ 상대등의 세력이 강화되었다.
- ④ 관료전을 지급하고 녹읍을 폐지하였다.
- ⑤ 6두품 세력이 호족과 연계하여 사회 개혁을 추진하였다.

42. 다음 두 자료는 신라 통일기의 어느 국왕에 대한 기록이다. 이를 통해 추론할 수 있는 사실로 가장 적절한 것은?

옛날 만사를 처리하던 영웅도 마지막에는 한 무더기 흙이 되어, 나무꾼과 목동들이 그 위에서 노래하고, 여우와 토끼는 그 옆에 굴을 팔 것이다. 이러한 일을 조용히 생각하면 마음 아프기 그지없으니, 이는 내가 즐기는 바가 아니다. 숨을 거둔 열흘 후, 바깥 뜰 창고 앞에서 나의 시체를 불교의 법식으로 화장하라.
- 삼국사기 -

왕이 평상시에 항상 지의 법사에게 “내가 죽은 후에 대룡(大龍)이 되어 불법을 숭상하고 나라를 수호하려고 한다.”고 말하였다.
- 삼국유사 -

- ① 왕권의 전제화가 이루어졌다.
- ② 불국사와 석굴암을 건립하였다.
- ③ 유교 사상이 정치 이념으로 채택되었다.
- ④ 왕의 호국 의지에 따라 대왕암을 만들었다.
- ⑤ 국방력이 약화되어 왜구의 침입이 잦아졌다.

43. 다음은 신라의 삼국 통일 이후 정치 상황을 요약한 글이다. 밑줄 친 내용 중 잘못 서술된 것은?

태종 무열왕은 최초의 진골 출신 왕으로서 통일 전쟁을 치르는 과정에서 왕권을 강화했다. 아울러 이 때부터 ㉠태종 무열왕의 직계 자손만이 왕위를 세습하게 되었다. 나아가 ㉡왕명을 받들고 기밀 사무를 관장하는 집사부의 장관인 시중의 기능을 강화하고, ㉢귀족 세력의 이익을 대변하던 상대등의 세력을 억제하였다.

신문왕은 김흠돌의 모역 사건을 계기로 귀족 세력을 숙청하고 정치 세력을 다시 편성하였다. ㉣중앙 정치 기구와 군사 조직을 정비하고 지방 행정 조직을 완비하였다.

이렇듯 왕권이 강화되면서, 상대적으로 진골 귀족 세력은 약화되었다. 박씨 세력이나 가야 및 고구려계 귀족은 점차 중앙 권력에서 소외되었다. 그리고 ㉤이제까지 정치적으로 성장해 왔던 6두품 세력이 왕권과 대립하였다.

- ① ㉠
- ② ㉡
- ③ ㉢
- ④ ㉣
- ⑤ ㉤

44. 다음은 통일 신라 시대의 정치적 변화를 설명한 것이다. 밑줄 친 부분에 대한 설명으로 잘못된 것은? [2점]

㉠ 신라 중대에는 왕권이 전제화되었으며, 왕위는 진덕여왕을 끝으로 성골에서 진골로 넘어갔다. 한편 6두품 귀족의 세력도 상대적으로 부각되었다. 그들은 진골 귀족에 대항하여 왕권과 결탁하기도 하였다. 그리하여 신분적 제약에도 불구하고 ㉡ 학문적·종교적 식견에 의하여 국왕의 정치적 조언자가 되기도 하였다.

그러나 ㉢ 신라 하대에 이르러 6두품 귀족은 중앙 권력에서 점차 배제되었다. 그들은 ㉣ 합리적인 유교 이념을 내세우면서 국가 체제 내에서 개혁을 시도하였지만, 그것이 거부되자 점차 ㉤ 반신라적 태도를 취하게 되었다.

- ① ㉠ - 상대등에 비해 집사부 시중의 권한이 강화되었다.
- ② ㉡ - 6두품은 화백 회의에 참여하여 정책 결정을 주도하였다.
- ③ ㉢ - 6두품은 호족 세력과 연계하여 사회 개혁을 추구하였다.
- ④ ㉣ - 최치원은 시무 10여 조의 개혁안을 건의하였다.
- ⑤ ㉤ - 선종 불교 세력도 이와 같은 태도를 가지고 있었다.

45. 다음은 통일 신라의 정책이다. 이와 유사한 목적으로 실시되었던 경제 시책을 <보기>에서 고르면?

- 국학을 설립하고 귀족 세력을 숙청하였다.
- 집사부의 장관인 시중의 기능을 강화하였다.
- 9주 5소경 체제의 지방 행정 조직을 완비하였다.

< 보 기 >

ㄱ. 관료전을 지급하였다.
 ㄴ. 백성에게 정전을 지급하였다.
 ㄷ. 폐지되었던 녹읍을 다시 지급하였다.
 ㄹ. 왕족과 공신들에게 식읍을 지급하였다.

- ① ㄱ, ㄴ
- ② ㄱ, ㄷ
- ③ ㄴ, ㄹ
- ④ ㄴ, ㄹ
- ⑤ ㄷ, ㄹ

46. 다음의 (가), (나) 국가와 관련된 내용으로 옳지 않은 것은?(166)

역사, 지리적으로 연관된 국가마다 (가)를 고구려의 계승국, 말갈족의 국가, 또는 당 나라의 지방 봉건 정권으로 보는 등 서로 다르게 인식한다. 현재 남한과 북한에서는 (가)는 고구려의 계승국으로, 한국사의 일부라고 동일하게 생각한다. 그래서 이 시대를 북쪽에는 (가), 그 남쪽에는 (나)가 양립한 ‘남북국 시대’라고 한다. …(중략)… 남북국 시대론은 (나)의 역사적 가치를 낮추는 것이 아니라 방기되었던 (가)를 역사 연구의 마당에 내놓아 빛을 보게 한 것임을 강조하고 싶다.

- 고구려연구회 홈페이지 -

		(가)	(나)
①	수상	대내상	시중
②	지방 행정 조직	5경 15부 62주	9주 5소경
③	중앙군	9서당	10위
④	감찰 기구	중정대	사정부
⑤	교육 기관	주자감	국학

47. 밑줄 친 내용을 반박하기 위한 근거를 <보기>에서 모두 고른 것은? (266)

중국의 ‘동북공정’이 문제가 되고 있는 것은 동북공정에서 다루고 있는 내용들 중 고구려사를 비롯한 고조선, 발해 등 한국 고대사와 관련된 연구들이 한국사를 크게 왜곡하고 있기 때문이다. …(중략)… 중국은 고구려사 뿐만 아니라 고조선사와 발해사까지도 중국사의 영역에 포함시키고 있는데, 이는 한국사의 근간을 뒤흔드는 것으로 우리는 도저히 받아들일 수 없는 것이다.

<보기>

ㄱ. 발해는 인안·대흥 등의 독자적인 연호를 사용하였다.
 ㄴ. 발해는 당의 문물을 받아들여 정치 체제를 정비하였다.
 ㄷ. 고구려는 중국과의 교역에서 반량전과 오수전을 사용하였다.
 ㄹ. 고구려는 수당의 침략을 물리쳐 민족의 방과제 역할을 하였다.

- ① ㄱ, ㄴ ② ㄱ, ㄹ ③ ㄴ, ㄷ ④ ㄴ, ㄹ ⑤ ㄷ, ㄹ

48. 다음에서 설명하고 있는 나라가 우리 민족의 국가임을 증명하기 위한 탐구 활동으로 적절하지 못한 것은?

- 9세기 전반에는 해동성국이라 불렸다.
- 인안, 대흥 등의 독자적인 연호를 사용하였다.

- ① 건국을 주도한 세력을 조사한다.
 ② 중앙 정치 조직의 특색을 조사한다.

- ③ 이 나라가 멸망한 후 그 지배층의 동향을 조사한다.
 ④ 조선 후기의 역사가가 당시를 남북국 시대로 파악한 이유를 알아본다.
 ⑤ 일본에 보낸 외교 문서를 통해 이 나라 지배층의 역사 계승 의식을 조사한다.

49. (가) 국가에 대한 설명으로 옳지 않은 것은?



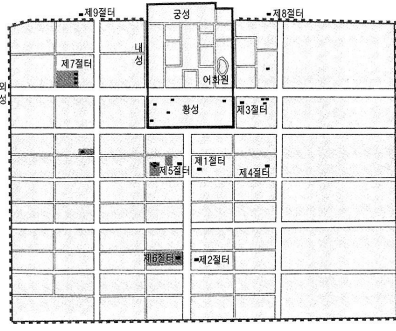
- ① 고구려 계승 의식이 강하였다.
 ② 9서당을 설치하여 민족 융합을 추진하였다.
 ③ 인안, 대흥 등 독자적인 연호를 사용하였다.
 ④ 신라와 교통로를 개설하여 대립 관계를 해소하려 하였다.
 ⑤ 정당성은 이원적 통치 체제로 운영되어 독자성을 보였다.

50. 표는 어느 나라의 발전 과정을 정리한 것이다. 이 나라에 대한 설명으로 옳지 않은 것은?(1611)

	무왕	문왕	선왕
본명	대무예	대흠무	대인수
연호	인안(仁安)	대흥(大興)	건흥(建興)
주요 내용	산둥 지방 공격 북만주 일대 장악	상경 천도 신라도 개설 주자감 설치	해동성국 칭호 5경 15부 62주 설치

- ① 무왕은 영토 확장을 놓고 당과 충돌하였다.
 ② 당과 대등한 지위를 대외적으로 과시하였다.
 ③ 지배 계층은 신라 계승 의식을 가지고 있었다.
 ④ 선왕 때에 최대의 영역을 이루어 전성기를 맞이하였다.
 ⑤ 문왕은 체제를 정비하고 신라와의 관계를 개선하려 하였다.

51. 다음 자료와 관련된 국가에 대한 설명으로 옳지 않은 것은?



- ① 건국을 주도한 세력을 조사한다.
 ② 중앙 정치 조직의 특색을 조사한다.

- ① 농업에서는 주로 밭농사를 하였다.
- ② 멸망 후 일부 지배층은 고려로 편입되었다.
- ③ 신라와는 상호 교류나 사신 왕래가 없었다.
- ④ 지배층은 고구려 계승 의식을 지니고 있었다.
- ⑤ 일본과 관계를 중시하여 활발하게 무역을 하였다.

52. 다음은 중국의 역사 교과서에 쓰여진 발해에 관한 서술이다. 이와 같은 주장을 반박할 수 있는 근거로 적합하지 않은 것은? [3점]

속말말갈은 흑수말갈의 남쪽에 분포되어 있었다. 당조(唐朝) 초기에 이미 당조 정부에 귀속되었다. 7세기 말엽에 속말말갈의 수령 대조영이 여러 종족들을 통일하고 정권을 세웠다. 713년에 당 현종이 대조영을 발해군왕(渤海郡王)으로 책봉하고 발해 도독부 도독의 직위를 수여하였다. 이때로부터 속말말갈이 수립한 정권을 발해라고 불렀다.

- ① 궁궐터에서 온돌 장치가 발견되었다.
- ② 지배 계층은 고구려계가 대부분이었다.
- ③ 일본에 보낸 국서에서 '고려 국왕'이라 칭했다.
- ④ 수도 상경에 남북으로 넓은 주작 대로를 만들었다.
- ⑤ 정해 공주 묘는 굴식 돌방 무덤으로 모줄임 천장 구조였다.

53. 다음 사료를 종합하여 내린 결론으로 가장 적절한 것은? [3점](156)

- 저 대씨가 어떤 사람인가? 바로 고구려 사람이다. 그들이 차지하고 있던 땅은 어떤 땅인가? 바로 고구려 땅이다. - 발해고 -
- 대조영은 본래 고구려의 별종이다. ... (중략) ... 그는 용맹하고 병사 다루기를 잘하였으므로 말갈과 고구려의 남은 무리가 그에게 복속하였다. - 구당서 -
- 문왕이 일본에 사신을 보내면서 스스로를 '고려국왕'이라 불렀으며, 일본에서도 발해를 '고려'라고 자주 불렀다. - 속일본기 -

- ① 발해는 고구려를 계승한 국가였다.
- ② 말갈인이 지배층으로 상승하기도 하였다.
- ③ 일본은 발해와 우호적인 관계를 유지하였다.
- ④ 통일 신라와 발해가 남북국의 형세를 이루게 되었다.
- ⑤ 발해 멸망 후 고구려 계통의 많은 유민들이 고려로 망명하였다.

54. 다음 글에 나타난 발해사에 대한 인식을 반박하기 위한 적절한 활동을 <보기>에서 모두 고른 것은? [3점](159)

속말 말갈은 당나라 초기에 이미 당에 귀속되었다. 7세기 말엽에 속말 말갈의 수령 대조영이 여러 종족을 통일하고 정권을 세웠다. 713년에 당 현종이 대조영을 발해군왕으로 책봉하고 발해도독부 도독의 직위를 수여하였다. 이 때부터 속말 말갈이 수립한 정권을 발해라고 불렀다.

- 중국 초급중학교 교과서, 『중국력사1』 -

< 보 기 >

- ㄱ. 발해가 중앙 관제로 3성 6부를 두게 된 과정을 조사한다.
- ㄴ. 발해의 존락에서 주민의 다수를 차지했던 종족을 알아본다.
- ㄷ. 발해가 일본에 보낸 외교 문서에 '고려국왕' 명칭을 사용한 목적을 살펴본다.
- ㄹ. 발해가 멸망한 후 고려가 발해 유민을 적극 받아들인 사실의 의미를 파악한다.

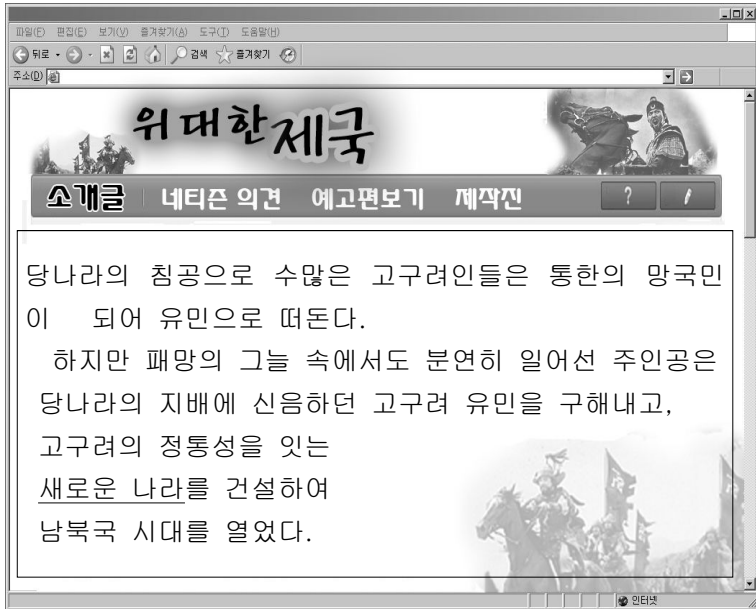
- ① ㄱ, ㄴ ② ㄱ, ㄷ ③ ㄴ, ㄷ ④ ㄴ, ㄹ ⑤ ㄷ, ㄹ
55. 다음은 어느 나라의 건국 과정에 대한 자료이다. 이 나라에 대한 옳은 설명을 <보기>에서 모두 고른 것은?(10709)

대조영은 드디어 그 무리를 이끌고 동쪽 계류의 옛 땅으로 들어가 동모산을 거점으로 하여 성을 쌓고 거주하였다. 대조영은 용맹하고 병사를 잘 다루었으므로 말갈인과 고구려의 유민들이 점차 그에게 들어갔다. - 『구당서』 -

< 보 기 >

- ㄱ. 9주 5소경의 행정 조직을 정비하여 지방을 다스렸다.
- ㄴ. 문무 관료에게 관료전을 지급하고 녹읍을 폐지하였다.
- ㄷ. 건국 초기에는 당과 대립하여 산둥 반도를 공격하였다.
- ㄹ. 일본에 보낸 국서에 고려라는 국호를 사용하기도 하였다.

- ① ㄱ, ㄴ ② ㄱ, ㄷ ③ ㄴ, ㄷ ④ ㄴ, ㄹ ⑤ ㄷ, ㄹ
56. 다음은 영화 홍보를 위한 웹 페이지이다. 밑줄 친 '새로운 나라'와 관련된 설명으로 옳지 않은 것은?(20706)



- ① 인안, 대흥 등의 독자적인 연호를 사용하였다.
- ② 당의 침입에 대비하여 천리장성을 축조하였다.
- ③ 산둥 지방과 요서 지역을 공격하여 당과 격돌하였다.
- ④ 신라도를 개설하여 신라와의 대립 관계를 해소하려 하였다.
- ⑤ 돌궐, 일본과 연결하여 동북 아시아의 세력 균형을 꾀하였다.

57. 자료의 밑줄 친 '이 나라'에 대한 설명으로 옳은 것은?(20703)

이 나라를 세운 대조영은 본래 고구려의 별종(別種)이다. 고구려가 망하자, …… 대조영은 드디어 그 무리를 이끌고 동쪽 계투의 옛 땅으로 들어가 동모산을 거점으로 하여 성을 쌓고 거주하였다. 대조영은 용맹하고 병사를 잘 다루었으므로 말갈의 무리와 고구려의 남은 무리가 점차 그에게 들어갔다.

- 『구당서』 -

- ① 지방의 22담로에 왕족을 파견하여 다스렸다.
- ② 중앙군으로 9서당, 지방군으로 10정을 설치하였다.
- ③ 문무 관리에게 관료전을 지급하고 녹읍을 폐지하였다.
- ④ 왕명을 받들고 기밀 사무를 관장하는 집사부를 두었다.
- ⑤ 일본에 보낸 국서에 고려국왕이라는 명칭을 사용하였다.

58. 다음과 같이 체험 학습을 하고자 할 때 주제로 가장 적절한 것은?(2511)

체험 학습 계획서

주제 : _____
 기간 : 2006년 1월 5일 - 2006년 1월 9일(4박 5일)

경로 : 경주 출발
 → 완도(청해진)
 → 중국 양저우
 → 초저우
 → 덩저우(법화원)
 → 인천
 → 경주에서 해산

인솔 교사 : 2명
 참가 학생 : 30명

△△고등학교

- ① 해상왕 장보고를 찾아서
- ② 불교의 유입 경로를 따라서
- ③ 고려 청자의 수출 길을 따라서
- ④ 해동성국(海東盛國) 발해를 찾아서
- ⑤ 1,300여 년 전 의상이 간 길을 따라서

59. 다음 사료를 통해 알 수 있는 당시의 사회상으로 알맞은 것을 <보기>에서 고르면? [3점]

◦ 진성왕 3년(899) 나라 안의 여러 주군에서 공부(貢賦)를 바치지 않으니 창고가 비어 버리고 나라의 쓰임이 궁핍해졌다. 왕이 사신을 보내어 독촉하였지만, 이로 말미암아 곳곳에서 도적이 별떼처럼 일어났다. 이에 원종·애노 등이 사벌주(상주)에 의거하여 반란을 일으키니 왕이 나마 벼슬의 영기에게 명하여 잡게 하였다.

- 삼국사기 -

◦ 당(唐)의 19대 황제(소종 : 889~904)가 중흥을 이룰 때, 전쟁과 흉년 두 가지 재앙이 서쪽(당)에서 멈추어 동쪽(신라)으로 왔다. 어디고 이보다 더 나쁜 것이 없었고 굶어 죽고 싸우다 죽은 시체가 들판에 즐비하였다.

- 해인사 묘길상탑비 -

- < 보 기 > —
- ㄱ. 당과의 전쟁으로 국가 재정이 악화되었다.
 - ㄴ. 중앙 정부의 지방에 대한 통제력이 약화되었다.
 - ㄷ. 전제 왕권이 강화되면서 귀족 세력이 쇠퇴하였다.
 - ㄹ. 강압적 조세 징수로 각지에서 농민 봉기가 일어났다.

- ① ㄱ, ㄴ ② ㄱ, ㄷ ③ ㄴ, ㄷ ④ ㄴ, ㄹ ⑤ ㄷ, ㄹ

60. 다음과 같은 상황이 전개될 무렵의 역사적 사실로 적절하지 않은 것은? [3점](166)

아침하는 소인들이 왕의 곁에 있어 정권을 농간하며 기강은 문란하여 해이해지고, 기근이 들어 백성들이 떠돌아 다니고 도적들이 벌 떼처럼 일어났다. 이에 견훤이 은근히 반심을 품고 무리를 모아 서울(경주) 서남쪽 주현들로 진격하니, 가는 곳마다 호응하여 무리가 한 달 사이에 5,000여 인에 이르렀다. …(중략)… “지금 내가 도읍을 완산(전주)에 정하고, 어찌 감히 의자왕의 쌓인 원통함을 씻지 아니하라.” 하고, 드디어 후백제 왕이라 스스로 칭하고 관부를 설치하여 직책을 나누었다.

- 『삼국사기』 -

- ① 관료전을 지급하고 녹읍을 폐지하였다.
- ② 견훤은 백제의 부흥을 내세워 주변 호족들을 포섭해 갔다.
- ③ 대토지 소유가 확대되면서 몰락 농민은 초적이 되기도 하였다.
- ④ 6두품 세력은 골품제를 비판하며 새로운 정치 이념을 제시하였다.
- ⑤ 신라의 지배권은 경주 일대로 축소되고 후삼국 시대가 전개되었다.

61. 다음과 같은 시대적 상황에서 성장한 정치 세력에 대한 설명으로 옳은 것은? [3점](266)

• 진성왕 3년(889), 백성들이 조세를 바치지 않았으므로 창고가 비고 말라서 국가의 재정이 궁핍했다. 이에 왕이 사자를 보내 독촉하니 이로 인해 사방에서 도둑이 봉기하였는 바, 원종과 애노 등이 상주에서 반란을 일으켰다.

• 진성왕 6년(892), 궁예가 북원의 양길에게 의탁하니 양길은 기뻐하며 궁예를 잘 대우하여 일을 맡겼다. …(중략)… 궁예는 양길에게서 나와 치악산 석남사에 주둔하면서 주천, 내성, 울진, 어진 등 여러 현을 두루 공격하여 모두 항복을 받았다.

- 『삼국사기』 -

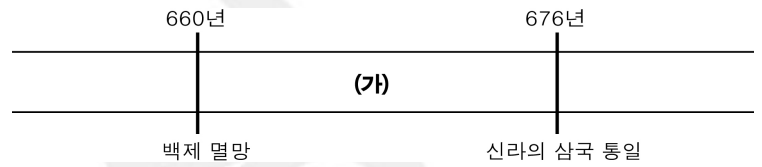
- ① 도평의사사를 장악하고 농장을 확대하여 양민을 억압하였다.
- ② 과거와 음서를 통해 관직을 독점하고 공음전의 혜택을 받았다.
- ③ 과거를 통해 정계에 진출하였으며 성리학과 행정 실무에 밝았다.
- ④ 성주, 장군으로 자칭하며 그 지방의 행정권과 군사권을 장악하였다.
- ⑤ 골품을 바탕으로 특권을 부여받고 막대한 토지와 노비를 소유하였다.

62. 자료를 읽고 추론한 내용으로 옳지 않은 것은? [3점](159)

원성왕이 즉위하니 내물왕의 12세손이다. 앞서 해공왕 말년에 이찬 지정이 난을 일으켰을 때 상대등이었던 김양상[선덕왕]과 함께 난을 평정하였다. 선덕왕이 즉위하면서 그 공으로 상대등이 되었다. 선덕왕이 죽자 여러 신하들이 의논하여 “지금 상대등은 덕망이 높아 어진 왕의 자격이 있다.”라고 하며 만장일치로 그를 추대하였다.

- ① 진골 귀족들의 세력이 크게 약화되었다.
- ② 무열왕 후손들의 왕위 계승이 중단되었다.
- ③ 중앙 귀족들 간의 권력 다툼이 발생하였다.
- ④ 시중보다 상대등의 정치적 위상이 더 높았다.
- ⑤ 귀족들의 합의로 왕위 계승이 이루어지기도 하였다.

63. (가) 시기의 사실로 적절한 것을 <보기>에서 모두 고른 것은?(259)



< 보 기 >

가. 을지문덕의 살수 대첩
 나. 당 태종의 안시성 공격
 다. 신라와 당 사이의 기벌포 전투
 라. 신라의 고구려 부흥 운동 지원

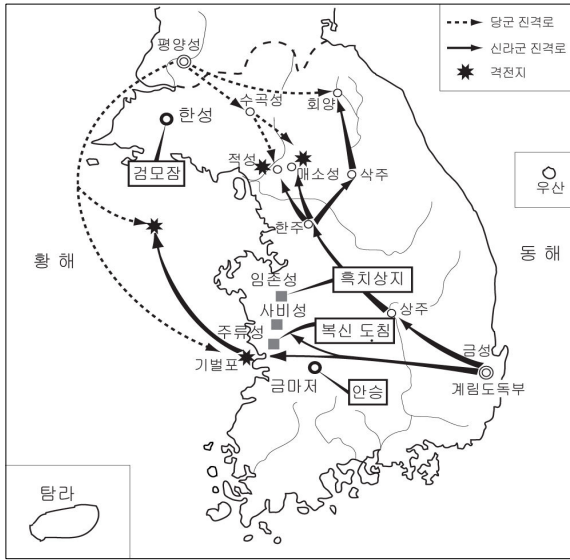
- ① 가, 나 ② 가, 다 ③ 나, 다 ④ 나, 라 ⑤ 다, 라

64. 지도의 (가)~(마)는 백제와 고구려의 부흥 운동이 일어난 지역을 표시한 것이다. 각 지역에 대한 설명으로 옳은 것은? [3점]



- ① (가) - 검모잠 등이 안승을 받들고 신라의 도움을 받아 부흥 운동을 전개하였다.
- ② (나) - 고연무 등이 고구려 유민과 연합하여 정안국을 세웠다.
- ③ (다) - 복신, 도침 등이 왕자 풍을 추대하고 군사를 일으켰다.
- ④ (라) - 흑치상지가 왜의 수군의 지원을 받아 군사를 일으켰다.
- ⑤ (마) - (가), (나)와 더불어 고구려 부흥 운동의 중심지였다.

65. 지도는 신라의 삼국 통일 과정을 나타낸 것이다. 이를 통하여 알 수 있는 사실로 옳지 않은 것은? [3점](1511)



- ① 안승은 금마저에서 백제 부흥 운동을 하였다.
- ② 검모잠은 한성에서 고구려 부흥 운동을 하였다.
- ③ 당은 계림 도독부를 두어 신라까지 지배하려 하였다.
- ④ 통일 후 신라의 영토는 대동강에서 원산만 이남이었다.
- ⑤ 신라는 매소성, 기벌포 전투에서 당군을 크게 격파하였다.

전국 고3 연합 모의 고사 문제

66. 다음은 고대 국가 형성에 대한 보고서의 개요이다. 괄호 안에 들어갈 적절한 사실을 <보기>에서 모두 고른 것은?

1. 서론 : 연맹 왕국의 한계 서술
 - 왕권의 미약, 통치 조직의 미비
 2. 본론 : 삼국의 고대 국가 형성에 기여한 정책 서술
 - ()
 3. 결론 : 고대 국가로 발전된 삼국의 공통적인 특징 정리
 - 왕권 강화, 중앙 집권화

< 보 기 >
 가. 불교 수용 나. 율령 반포
 다. 과거제 실시 리. 유교 정치 실시

- ① 가, 나 ② 가, 다 ③ 나, 다 ④ 나, 리 ⑤ 다, 리

67. 밑줄 친 부분을 뒷받침하기 위한 탐구 활동으로 옳은 것을 <보기>에서 고르며? [3점]

부여는 연맹 왕국의 단계에서 멸망하였지만 역사적 의미는 매우 크다. 그 이유는 고구려나 백제의 건국 세력이 부여의 한 계통임을 자처하였기 때문이다.

< 보 기 >
 가. 백제 왕족의 성씨와 국호 변천을 조사한다.
 나. 부여, 고구려, 백제의 대(對)중국 관계를 알아본다.
 다. 각 국의 건국 신화를 조사하고 그 원형을 비교한다.
 리. 부여, 고구려, 백제의 중앙 집권 체제 강화 과정을 비교한다.

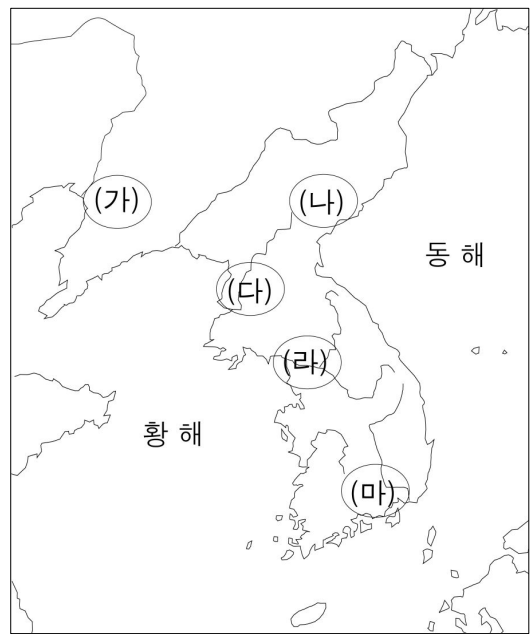
- ① 가, 나 ② 가, 다 ③ 나, 다 ④ 나, 리 ⑤ 다, 리

68. 다음은 중국 일부 역사학자들의 고구려사에 대한 인식이다. 이들의 주장에 대한 반론으로 적절하지 못한 것은? [3점]

- 고구려는 중국 영토 안에 세워진 소수 민족의 지방 정권이었다.
- 고구려는 중국에 신하라 칭하고 조공을 바쳤다.
- 수당과 고구려의 전쟁은 고구려 세력의 도전을 응징한 중국 국내 전쟁이었다.

- ① 영희 : 고구려는 오늘날의 중국 영토 바깥에서 건국된 독자적인 국가였어.
- ② 소영 : 당시 조공은 동아시아 국가들 간에 행해진 일반적이고 의례적인 외교 형태였어.
- ③ 철수 : 고구려와 수당과의 전쟁은 동북 아시아의 주도권 쟁탈을 위한 국가 간의 전쟁이었어.
- ④ 정아 : 온돌이나 돌무지 무덤, 벽화 등은 고구려 문화가 중국과는 다른 계통임을 보여주고 있어.
- ⑤ 태우 : 고려가 고구려를 계승했다는 것은 고려인들이 고구려를 중국과 다른 나라로 인식하고 있었다는 반증이야.

다음 지도를 보고 물음에 답하시오.



69. 자료의 국가가 위치했던 지역을 지도에서 옳게 고른 것은?(30703)

◦ 철이 생산되어 한(漢)·예(濊)·왜(倭)가 모두 와서 사 간다. 시장에서의 모든 매매는 철을 이용하는데, 마치 중국에서 돈을 쓰는 것과 같다.

◦ 모두 12국이다. 또 여러 작은 별읍에 제각기 거수가 있다. 그 중 큰 세력을 지닌 이를 신지라고 한다.

- ① (가) ② (나) ③ (다) ④ (라) ⑤ (마)

70. (가)~(마)의 지역에서 있었던 사실을 파악하기 위한 탐구 활동으로 적절하지 않은 것은? [3점](30703)

- ① (가) - 고구려와 당의 격전지를 조사한다.
- ② (나) - 강동 6주가 설치된 지역을 조사한다.
- ③ (다) - 근초고왕의 업적을 알아본다.
- ④ (라) - 온조가 국가를 세운 곳을 알아본다.
- ⑤ (마) - 광개토 대왕 군대의 활동을 조사한다.

71. 다음 고구려의 관직에 대한 설명으로 옳은 것은? [3점]

○ 임기는 3년인데 유력한 자가 있으면 임기에 구애받지 않으나, 만약 자기 마음대로 되지 않으면 군사를 동원하여 전쟁을 벌이고 이긴 자가 취임하였다.

○ 귀족 회의의 의장으로서 10여 관등 중 최고 관등에 해당하는 사람이 임명되었다.


- ① 국정을 총괄하는 역할을 맡았다.
- ② 지방관의 임명권을 가지고 있었다.
- ③ 방령과 같은 지방 행정의 책임자였다.
- ④ 신라의 외사정과 같은 역할을 하였다.
- ⑤ 왕의 측근으로 왕명 출납 업무를 맡았다.

72. 지도는 고대 국가의 형세를 나타낸 것이다. 이 시기의 (가)~(라) 국가에 관한 설명으로 옳지 않은 것은? [3점]



- ① (가) - 중국과 힘을 겨룰 정도로 강성하였다.
- ② (나) - 수도를 한성에서 웅진으로 옮겼다.
- ③ (다) - 박, 석, 김의 3성이 교대로 왕위를 차지하였다.
- ④ (라) - 대가야가 연맹의 맹주로 성장하였다.
- ⑤ (나)와 (다)는 동맹을 강화하여 (가)에 대항하였다.

73. 다음 수업에서 선생님이 설명하고 있는 삼국의 대외 관계를 잘 보여 주는 유물을 <보기>에서 모두 고른 것은?(366)



<보 기>
 가. 마운령비 나. 호우명 그릇
 다. 단양 적성비 리. 광개토 대왕릉비

- ① 가, 나 ② 가, 다 ③ 나, 다 ④ 나, 리 ⑤ 다, 리

74. 다음은 백제가 중국에 보낸 국서의 일부이다. 이 시기 삼국의 형세를 파악하기 위한 자료로 적절한 것은? [3점](363)

고구려의 잘못은 하나 둘이 아닙니다. 겉으로는 겸손한 말을 지껄이면서도 속으로는 흉악한 짐승의 저돌성을 품고 있습니다. 남쪽의 송과 수교하기도 하고, 북쪽으로는 유목 민족인 유연과 맹약을 맺기도 하여 서로 순치(脣齒)의 관계를 이루면서 폐하의 영토[북위]를 짓밟으려 하고 있습니다. 한 방울씩 새어나오는 물이라도 마땅히 일찍 막아야 하니, 지금 취하지 않으면 뒷날 후회할 것입니다.

- ① 중원 고구려비의 비문 ② 칠지도의 명문
- ③ 단양 적성비의 비문 ④ 임신서기석의 명문
- ⑤ 을지문덕의 오언시

75. 다음은 충주 지역에서 발견된 비석과 비문의 일부이다. 이 비석이 건립된 시기의 상황으로 타당한 것은?(30709)



5월에 고구려 대왕이 상왕공(相王公)과 함께 동쪽 오랑캐 신라의 매금(寐錦)을 만나 영원토록 우호를 맺기 위해 이곳에 왔다. ... (중략) ... 이에 고구려 대왕은 태자 공과 대사자 다우 환노에게 명하여 이곳에 머물러 신라 매금을 만나게 하였다.
 * 매금: 신라 왕을 가리키는 말

- ① 대가야가 신라에 복속되었다.
- ② 고구려가 천리 장성을 쌓았다.
- ③ 백제는 수도를 웅진으로 옮겼다.
- ④ 신라는 당항성을 장악하고 북한산비를 세웠다.
- ⑤ 신라는 왕의 칭호를 이사금에서 마립간으로 고쳤다.

76. 자료에 나타난 삼국 항쟁의 배경을 알아보기 위한 탐구 활동으

로 적절한 것은? [3점](3510)

◦ 소지마립간 15년 3월에 백제왕 모태(동성왕)가 사신을 보내 혼인을 청하니 왕은 이별찬 비지의 딸을 보냈다.

◦ 소지마립간 16년 7월에 고구려 군이 견아성을 포위하였는데, 백제왕 모태가 군사를 보내 고구려 군의 포위를 풀게 하였다.

◦ 소지마립간 17년 8월에 고구려가 백제 치양성을 포위하였다. 백제가 구원을 청하자, 왕이 장군 덕지를 보내 구원하게 하니, 고구려 군대가 무너져 달아났다.

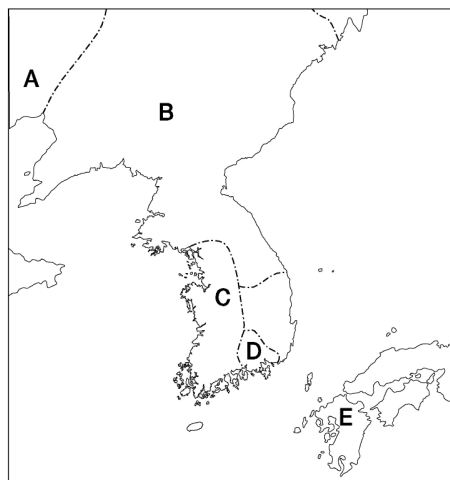
- ① 중원 고구려비가 건립된 상황을 알아본다.
- ② 후기 가야 연맹이 해체된 시기를 조사한다.
- ③ 관산성 전투에서 전사한 백제 왕을 조사한다.
- ④ 백제가 웅진을 떠나 천도한 지역을 지도에서 찾아본다.
- ⑤ 신라가 인재 양성을 위해 개편한 국가적인 조직을 알아본다.

다음을 읽고 물음에 답하시오.

○ 영락 6년(396) 왕은 몸소 군대를 이끌고 (가)국을 토벌하였다. ... (중략)... 군대가 그 국성에 이르렀는데도 감히 복종하지 않고 맞서 싸우는지라, 왕이 크게 노하여 아리수(한강)를 건너 군사를 보내 성을 압박하였다. ... (중략)... (가)국의 우두머리는 남녀 포로 천 명과 세포(細布) 천 필을 바치고, 왕께 무릎을 꿇고 “지금부터 영원히 노객이 되겠습니다.”라고 서약하였다.

○ 영락 9년(399) (가)국이 서약을 어기고 (나)국과 화통하므로, 왕은 평양으로 순시하러 내려갔다. 이때 신라가 사신을 보내 왕께 아뢰기를, “(나)국인들이 신라 국경 내에 가득 차 성을 파괴하고 있습니다. 왕의 노객인 신라는 귀의하여, ① 왕의 명령을 청하옵니다.”라고 하였다.

77. 밑줄 친 (가)국을 지도에서 바르게 찾은 것은?(30706)



- ① A ② B ③ C ④ D ⑤ E

78. 밑줄 친 ㉠으로 일어난 결과가 아닌 것은?(30706)

- ① 왕의 보병과 기병이 신라를 구원하였다.
- ② 왕의 군대가 신라 영토 내에 주둔하게 되었다.
- ③ 신라에 병부가 설치되어 군사 조직이 확립되었다.

- ④ 가야의 세력 범위가 낙동강 서쪽 연안으로 축소되었다.
- ⑤ 왕은 신라와 왜·가야 사이의 세력 경쟁에 개입하였다.

79. 다음은 고구려의 발전 과정을 나타낸 것이다. 시기순으로 나열한 것은?[3점](30704)

(가) 왕이 군사 3만 명을 거느리고 공격하여, 8천 명을 사로잡아 평양으로 옮겨 살게 하였다. 10월 낙랑군을 공격하여 남녀 2천여 명을 사로잡았다.

(나) 전진의 순도가 불상과 경문을 가져왔고, 태학을 세워 자제들을 교육했다. 처음으로 법령을 반포하였다.

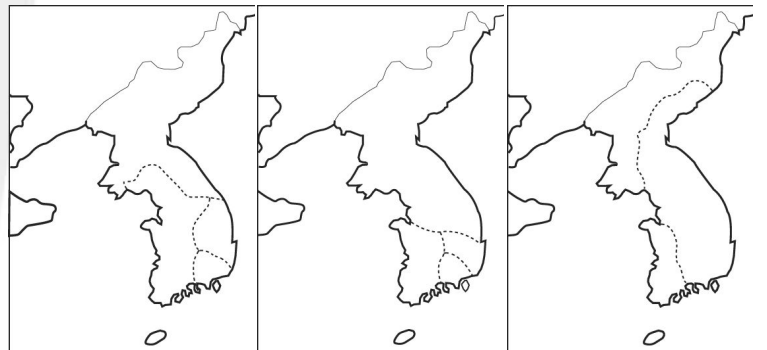
(다) 평양으로 도읍을 옮겼다. 백제를 침공하여 한성을 점령하고 개로왕을 죽이고 남녀 8천 명을 생포하여 돌아왔다.

(라) 교서를 내려 보병과 기병 5만을 보내어 신라를 도와주었다. 왕의 군대가 이르자 왜적이 도망갔다.

- 삼국사기 -

- ① (가) - (나) - (다) - (라)
- ② (가) - (나) - (라) - (다)
- ③ (나) - (가) - (다) - (라)
- ④ (나) - (라) - (다) - (가)
- ⑤ (다) - (나) - (라) - (가)

80. 지도는 삼국의 형세를 나타낸 것이다. (가)~(다) 시기에 대한 설명으로 적절하지 않은 것은? (364)



(가) (나) (다)

- ① (가) - 백제는 요서, 산둥, 규슈 지방으로 진출하였다.
- ② (나) - 고구려는 낙랑을 축출하여 영토를 확장하였다.
- ③ (다) - 신라는 화랑도를 국가적 조직으로 개편하였다.
- ④ (나), (다) - 삼국은 한강 유역을 차지하기 위해 쟁탈전을 벌였다.
- ⑤ 삼국의 형세는 (가)→(나)→(다)의 순서로 변화하였다.

81. 다음은 삼국 간의 항쟁에 관한 사료이다. 이를 통해 추론할 수 있는 내용으로 옳은 것은? [3점](30707)

- (양원왕 6년) 봄 정월에 백제가 침범해 와서 도살성을 함락시켰다. 3월에 백제 금현성을 공격하였는데, 신라 사람들이 틈을 타서 두 성을 빼앗아 갔다.
- (진흥왕 14년) 가을 7월에 백제의 동북쪽 변두리를 빼앗아 신주(경기도 광주)를 설치하고 아찬 무력을 군주로 삼았다.
- (성왕 32년) 가을 7월에 왕은 신라를 습격하고자 하여 친히 군사를 거느리고 밤에 구천에 이르렀다. 신라의 북병이 일어나자 더불어 싸웠으나 난병에게 해침을 당하여 죽었다.

- ① 백제는 체제 정비를 위해 22담로제를 시행하였을 것이다.
- ② 백제는 왕의 전사를 계기로 웅진으로 천도하였을 것이다.
- ③ 고구려는 한강 유역 탈환을 위해 평양성으로 천도했을 것이다.
- ④ 신라는 한강 유역을 장악하여 중국과 직접 교역할 수 있었을 것이다.
- ⑤ 신라는 백제와의 동맹을 깨고 고구려와 동맹 관계를 회복하였을 것이다.

82. 진흥왕이 즉위한 나이는 사료에 따라 다르다. 학생들이 이 사료들의 신뢰 여부를 비판하기 위한 탐구 활동으로 적절하지 않은 것은?(30706)

- 진흥왕이 즉위하니, 이때 나이가 7세였다. 왕이 어려서 왕의 어머니인 태후가 섭정*하였다. - 『삼국사기』 -
 - 진흥왕이 즉위할 때 나이가 15세였다. 왕의 어머니인 태후가 섭정하였다. - 『삼국유사』 -
- * 섭정 : 왕이 직접 통치할 수 없을 때 왕을 대신해 다스림.

- ① 유교 경전의 학습 내용을 기록한 임신서기석을 조사한다.
- ② 진흥왕 즉위 나이에 관해 기록한 다른 역사서를 찾아본다.
- ③ 어린 나이에 즉위했다고 기록한 진흥왕 순수비를 조사한다.
- ④ 태후가 섭정했던 신라 왕의 즉위 나이에 관한 자료를 찾아본다.
- ⑤ 어린 나이와 성인의 나이를 구분할 수 있는 신라 시대 자료를 찾아본다.

83. 일본의 어느 역사 교과서에 수록된 4세기 말의 우리나라 지도이다. 이 지도의 내용에 대해 우리나라 학생들이 비판할 수 있는 내용으로 가장 적절한 것은? [3점](357)



- ① 신라가 금관가야를 정복한 사실이 반영되지 않았다.
 - ② 한강 유역이 신라에 편입된 사실이 표시되지 않았다.
 - ③ 백제가 마한 지역을 통합한 사실이 반영되지 않았다.
 - ④ 평양이 백제의 영역에 편입된 사실이 반영되지 않았다.
 - ⑤ 고구려가 남한강 유역을 차지한 사실이 표시되지 않았다.
84. 다음 신문 기사에 나오는 풍납 토성이 역사의 무대에서 사라지게 된 계기를 찾는 탐구 활동으로 적절한 것은 ?

지난 해 9월 이후 ○○대학이 발굴하고 있는 서울 송파구 풍납동의 풍납 토성 안에서 백제의 왕궁이나 종묘로 추정되는 대형 건물터가 발견되었다. 또한 이 곳에서 대형 건물이 있었음을 명확히 보여 주는 대형 기와와 벽돌이 다량 발굴됐다.

이는 백제가 한성에 도읍을 정하고 있던 시기의 왕성이 어디나를 두고 벌여졌던 기나긴 논쟁에 해결의 실마리를 제공한 것이며, 아울러 그동안 한국 고대 사학계에서 논란이 되었던 『삼국사기』 백제 본기에 나오는 초기 기록이 정확하다는 사실을 입증하는 일대 쾌거로 평가된다. - ○○일보, 2000. 1. 12. -

- ① 가야 연맹이 소멸된 원인을 알아본다.
- ② 백제가 사비성으로 천도한 시기를 알아본다.
- ③ 고구려가 평양으로 천도한 뒤 진출한 방향을 알아본다.
- ④ 백제가 요서, 산둥, 규슈 등지로 진출한 시기를 조사한다.
- ⑤ 신라 진흥왕 때 세운 순수비의 위치를 지도에서 찾아본다.

85. 자료를 통해 추론한 당시 사회 모습으로 적절하지 않은 것은?(30710)

발굴 보고서

1. 기간 : 1997. 1 ~ 1997. 8 1999. 9 ~ 2000. 5

2. 장소 : 한강 유역 풍납토성 내부 유적지

3. 발굴 유물 : 다량의 계기를 비롯한 2,000점이 넘는 토기, 12마리 분의 말머리뼈, 초대형 항아리, 각종 유리구슬과 유리구슬 거푸집, 대부(大夫)·정(井) 등의 글자가 새겨진 토기와 벽돌, 토제 벼루, 오수전, 중국 도자기

- ① 귀족의 수요에 따라 유리구슬이 제작되었다.
- ② 왕이 죽으면 많은 사람들을 함께 묻었다.
- ③ 국가적 규모의 제사 의식이 거행되었다.
- ④ 중국과의 교역이 이루어졌다.
- ⑤ 지배층은 한자를 사용하였다.

86. 다음은 고대 국가의 통치 조직을 정리한 것이다. ㉠~㉤에 대한 설명으로 옳은 것은? [3점]

구분	고구려	백제	신라	통일 신라
최고 관직	㉠	상좌평	상대등	시중
지방 행정 조직	5부	5방	㉡	9주
특수 행정 구역	3경	㉢	2소경	5소경
군사 조직	지방 조직과 밀접한 관련			㉣
최고 회의 기구	제가 회의	정사암 회의	㉤	

- ① ㉠ - 정당성의 장관으로 국정을 총괄하였다.
- ② ㉡ - 이 곳의 지방관은 군대의 지휘관을 겸하였다.
- ③ ㉢ - 풍수 지리설의 영향으로 지방 거점에 설치하였다.
- ④ ㉣ - 중앙군과 지방군의 구분 없이 10위로 편성하였다.
- ⑤ ㉤ - 임시 기구로 법의 제정이나 시행 규정을 다루었다.

87. 다음을 통하여 알 수 있는 고대 사회의 특징으로 옳은 것은?

◦ 범죄자가 있으면 제가들이 모여서 논의하여 사형에 처하고 처자는 몰수하여 노비로 삼는다.
- 삼국지 -

◦ 호암사에 정사암이라는 바위가 있다. 국가에서 재상을 뽑을 때 후보자 3~4명의 이름을 써서 상자에 넣어 바위 위에 두었다. 얼마 뒤 열어 보아 이름 위에 도장이 찍혀 있는 자를 재상으로 삼았다.
- 삼국유사 -

◦ 큰 일이 있을 때에는 반드시 중의를 따른다. 이를 화백이라 부른다.
- 신당서 -

- ① 활발한 정복 활동
- ② 율령 체제의 확립
- ③ 민본 사상의 성립
- ④ 귀족 합의제의 발달
- ⑤ 유교 정치 이념의 확대

88. 자료와 관련된 회의 기구에 참여할 수 있었던 사람들에 대하여 바르게 설명한 것은?(357)

○ 고구려에는 감옥이 없다. 범죄자가 있으면 제가들이 모여서 논의하여 사형에 처하였다. - 삼국지 -

○ 백제에는 호암사에 정사암이란 바위가 있다. 재상을 뽑을 때 후보자 3~4명의 이름을 써서 상자에 넣어 바위 위에 두었다. - 삼국유사 -

○ 신라에서는 큰 일이 있을 때에는 반드시 중의를 따른다. 한 사람이라도 반대하면 통과되지 못하였다. - 신당서 -

- ① 군현의 지방관 중에서 선출되었다.
- ② 중앙 관청의 말단 행정을 담당하였다.
- ③ 국가의 중요 정책을 심의의결하였다.
- ④ 유교 정치 이념을 수용하는 데 앞장섰다.
- ⑤ 중앙 집권 과정에서 부족원에 대한 지배권을 강화하였다.

89. 다음 자료를 통해 화랑도가 신라 사회에 미친 영향을 추론한 내용으로 옳지 않은 것은?

화랑들은 원광의 가르침인 세속 5계를 지키며, 산천을 널리 돌아다니면서 무술과 도의를 닦고, 전쟁시에는 나라를 위하여 목숨을 바쳐 싸웠다. 김대문은 『화랑세기』에서 “어진 재상과 충신이 여기서 배출되었고, 훌륭한 장군과 용감한 병사들이 이 곳에서 생겨났다.”라고 썼고, 중국의 기록에서는 “귀족의 자제 중에서 아름다운 사람을 가려 뽑아 곱게 단장시켜 화랑이라 하였다. 당시의 나라 사람들이 모두 존경하여 섬겼다.”라고 하였다.

- ① 계층 간의 갈등을 완화하는 역할을 하였다.
- ② 삼국 통일에 기여한 많은 인재를 배출하였다.
- ③ 중대사를 합의제로 결정하여 국민 통합에 기여하였다.
- ④ 사군이충(事君以忠)으로 보아 충성을 중시하는 사회였다.
- ⑤ 살생유택(殺生有擇)을 통해 생명 존중 사상을 강조하였다.

90. 지도의 (가)~(라)에 대한 설명으로 옳은 것을 <보기>에서 모두 고른 것은? [3점](366)



<보 기>

㉠. 당나라는 한반도 전체에 대한 지배권을 확보하기 위해 (가)에 도호부를 설치하였다.

㉡. 흑치상지 등은 (나)에서 백제 부흥 운동을 전개하였다.

㉢. 신라는 (다)에서 당의 수군을 섬멸하여 나당 전쟁을 승리로 이끌었다.

㉣. 고구려 부흥군은 신라의 지원으로 (라)에 거점을 마련하였다.

- ① ㉠, ㉡
- ② ㉡, ㉢
- ③ ㉢, ㉣
- ④ ㉠, ㉡, ㉢
- ⑤ ㉡, ㉢, ㉣

91. 자료의 전쟁 이후 신라의 상황에 대한 설명으로 옳은 것은?(30703)

◦ 당의 이근행이 군사 20만 명을 거느리고 매소성에 주둔하였다. 우리 군사가 이를 쳐서 쫓아 버리고 군마 3만여 필과 병장기를 노획하였다.

◦ 사찬 시득이 수군을 거느리고 소부리주 기벌포에서 당의 설인귀와 스물 두 번의 크고 작은 전투를 벌여 이기고 4천여 명의 목을 베었다.

- 『삼국사기』 -

- ① 지방 행정 조직을 9주 5소경으로 정비하였다.
- ② 왕의 칭호를 ‘마립간’에서 ‘왕’으로 바꾸었다.
- ③ 화랑도를 국가적인 조직으로 개편하였다.
- ④ 새로 확보한 영토에 북한산비를 세웠다.
- ⑤ 건원이라는 독자적 연호를 사용하였다.

92. 다음 글의 내용과 관련된 구체적 사례로 보기 어려운 것은?

각 나라는 수도의 위치가 치우쳐 있거나 교통과 통신이 원활하지 못했기 때문에 나타날 수 있는 지방 통치의 문제점을 극복하기 위하여 특수한 행정 구역을 설치하였다. 이러한 특수 행정 구역은 지방 지배의 거점이 되었을 뿐만 아니라 지방 문화를 발전시키는 역할도 하였다.

- ① 신라는 2개의 소경을 설치하였다.
- ② 백제는 22개의 담로를 설치하였다.
- ③ 고구려는 평양성, 국내성, 한성의 3경을 두었다.
- ④ 발해는 상경, 동경, 중경 등 5경을 두었다.
- ⑤ 통일 신라는 국경과 해안의 요지에 군진을 설치하였다.

93. 다음 연표를 참고하여 이 시기의 사회상을 잘못 추론한 것은?

연도	사건
676	신라의 삼국 통일
682	국학 건립
685	9주 5소경 설치
689	녹읍 폐지
722	정전 지급
751	불국사 창건

- ① 전제 왕권이 강화되었다.
- ② 불교 문화가 크게 발달하였다.
- ③ 골품 제도가 크게 동요되었다.
- ④ 귀족의 경제 기반이 약화되었다.
- ⑤ 유교 정치 이념의 도입이 시도되었다.

94. 다음 신문의 []에 들어갈 내용으로 가장 적절한 것은?(366)

한국사신문 689년 ○월○일

녹읍 혁파되다!!

내외관에게 지급되던 녹읍이 전격 폐지되었다. 이번 조치는 재작년 문무 관리들에게 관료전을 지급한 데 이은 것이다. 태종 무열왕의 직계 후손인 ○○왕은 이미 국학을 설립하고 9서당 10정의 군사 조직과 9주 5소경의 지방 행정 체제를 완비하는 등 개혁 작업을 추진해 왔다.

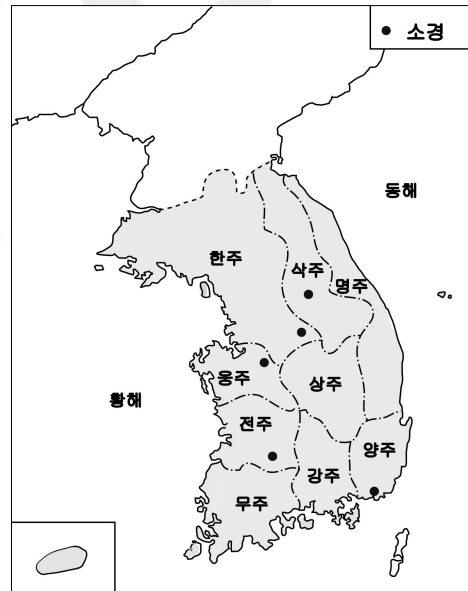
이번 조치로 그동안 []을(를) 위해 추진해 온 ○○왕의 일련의 개혁 작업은 일단락되었다는 평가를 받고 있다.

○○왕의 개혁, 어떻게 이루어져 왔다

682년 국학 설립
685년 9주 5소경 체제 정비
687년 문무 관료전 지급
689년 내외관의 녹읍 혁파

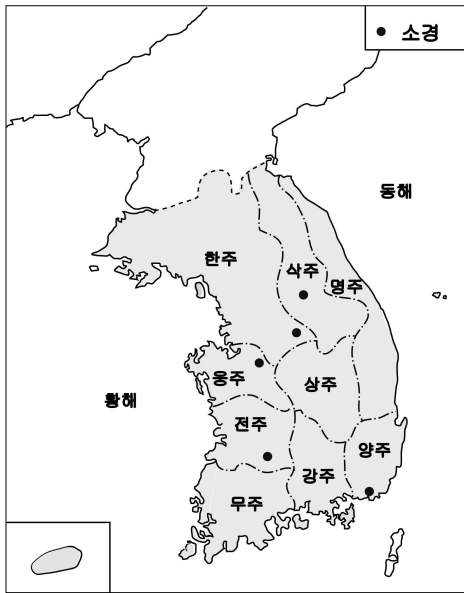
- ① 국왕권의 강화
- ② 골품제의 완성
- ③ 지방 세력의 포용
- ④ 수취 체제의 개선
- ⑤ 유학 교육의 내실화

95. 지도를 보고 통일 신라의 군사·행정 제도에 관하여 추론한 것으로 옳지 않은 것은?



- ① 5소경은 행정·문화의 중심지이었을 것이다.
- ② 지방 세력을 감시하고 견제하는 제도를 두었을 것이다.
- ③ 한주는 국경 지대로 더 많은 군대가 필요하였을 것이다.
- ④ 수도가 동남쪽으로 치우쳐 있어 보완이 필요하였을 것이다.
- ⑤ 지방을 행정 구역과 군사 구역으로 나누어 다스렸을 것이다.

96. 지도와 관련된 설명으로 옳은 것은? [3점](3510)



- ① 주의 지방군으로 9서당을 설치하였다.
- ② 풍수지리설의 영향으로 5소경이 설치되었다.
- ③ 태봉의 제도를 기초로 지방 체도를 정비하였다.
- ④ 5소경을 설치하여 지방의 균형 있는 발전을 꾀하였다.
- ⑤ 주의 장관은 통일 이전에 비해 군사 지휘관의 성격이 강해졌다.

97. 다음 자료를 통해 알 수 있는 발해의 사실 중 옳게 설명한 것을 <보기>에서 모두 고른 것은? [3점]

- 무예(무왕)가 열국(列國)을 주관하고 제번(諸蕃)을 거느려, 고구려의 옛 땅을 회복하고 부여의 유속(遺俗)을 잇게 되었습니다. …… 오늘에야 옛날의 예에 맞추어 선린을 도모하고자 귀국(일본)에 사신으로 영원장군 낭장 고인의(高仁義) 외 24인을 외교 문서와 함께 보내게 되었습니다. - 속일본기 -
- 발해는 사방 2,000리며, 곳곳에 마을이 있는데 모두 말갈 부락이다. 백성에는 말갈이 많고 토인(고구려 유민)은 적다. 모두 토인이 촌장을 하는데, 대촌의 촌장은 도독이라 부른다. - 유취국사 -

< 보 기 >

ㄱ. 지방관을 파견하지 않았다.
 ㄴ. 고구려 계승 의식을 가지고 있었다.
 ㄷ. 지배층의 다수는 고구려 유민이었다.
 ㄹ. 국경선은 고구려와 일치하였다.

- ① ㄱ, ㄴ ② ㄱ, ㄷ ③ ㄴ, ㄷ ④ ㄴ, ㄹ ⑤ ㄷ, ㄹ

98. 연표의 (가)~(라) 시기에 볼 수 있었던 신라의 상황으로 옳은 것을 <보기>에서 모두 고른 것은?(3610)

554	681	780	900	936
(가)	(나)	(다)	(라)	
관산성 전투	신문왕 즉위	혜공왕 피살	후백제 건국	후삼국 통일

< 보 기 >

ㄱ. (가) - 당항성을 통한 중국과의 왕래가 늘어났다.
 ㄴ. (나) - 6두품들이 독서삼품과를 통해 관직에 진출하였다.
 ㄷ. (다) - 무열왕의 직계 자손이 왕위를 계승하였다.
 ㄹ. (라) - 신라의 지배권이 금성(경주) 일대로 축소되었다

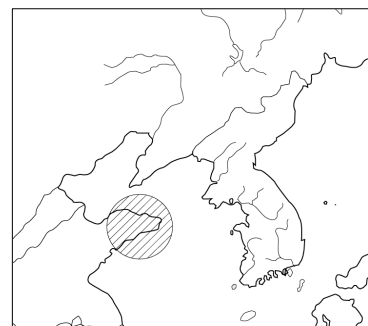
- ① ㄱ, ㄷ ② ㄱ, ㄹ ③ ㄴ, ㄷ ④ ㄴ, ㄹ ⑤ ㄷ, ㄹ

99. 다음 글을 참고로 하여 파악할 수 있는 당시 사회의 모습으로 적절하지 않은 것은?

신무 대왕이 즉위하기 전에 장보고에게 “내겐 이 세상에서 같이 살 수 없는 원수가 있소. 그대가 나를 위해 그를 없애 주고 내가 왕위에 오르면, 그대의 딸을 왕비로 삼겠소.” 라고 말하였다. 장보고는 이를 허락하고 마음과 힘을 같이 하여 군사를 일으켜 서울로 쳐들어가서, 일을 성공시켰다. 왕은 이미 왕위를 빼앗았으므로 장보고의 딸을 왕비로 삼고자 하니, 군신들이 힘껏 간했다. “장보고는 미친한 사람이니 임금께서 장보고의 딸을 왕비로 삼는 것은 옳지 못합니다.” 왕은 그 말을 따랐다.
 - 삼국유사 -

- ① 사병을 거느린 지방 세력이 성장하였다.
- ② 왕권이 전제화되면서 귀족 세력이 약화되었다.
- ③ 골품 제도에 따른 신분적 차별이 여전히 존재하였다.
- ④ 해적을 소탕하여 해상 무역권을 장악한 세력이 등장하였다.
- ⑤ 왕위 쟁탈전으로 중앙 정부의 지방에 대한 통제가 약화되었다.

100. 지도의 빗금 친 지역에 대한 역사 탐구 주제로 적절한 것을 <보기>에서 고르면? [3점](2611)



< 보 기 >

ㄱ. 신라가 이 지역에 청해진을 설치한 이유는 무엇일까?
 ㄴ. 고구려는 전성기 때 이 지역을 어떤 방식으로 지배하였을까?
 ㄷ. 발해는 왜 장문휴를 보내어 이 지역을 선제 공격하였을까?
 ㄹ. 백제가 4세기에 이 지역으로 진출할 수 있었던 배경은 무엇일까?

- ① ㄱ, ㄴ ② ㄱ, ㄷ ③ ㄴ, ㄷ
 ④ ㄴ, ㄹ ⑤ ㄷ, ㄹ

101. 자료에 보이는 ‘도적’과 관련된 설명으로 옳은 것을 <보기>에서 모두 고른 것은?(357)

- 진성왕 3년, 나라 안의 여러 주군에서 공부를 바치지 않으니 나라의 창고가 비어 버렸다. 왕이 사신을 보내어 세금 징수를 독촉하자, 곳곳에서 ‘도적’이 별떼같이 일어났다.
 - 진성왕 10년, ‘도적’이 나라 서남 방면에서 일어나 붉은 바지를 입어 구분하니 사람들이 이를 적고적이라 불렀다. 이들은 주현을 노략질하고 서울(경주)의 민가에 이르러 약탈하였다.
- 삼국사기 -

- < 보 기 >
- ㄱ. 가혹한 수탈에 대항하여 일어났다.
 - ㄴ. 그 중 일부는 호족 세력으로 성장하였다.
 - ㄷ. 지방 토착 세력인 향리들이 주축을 이루었다.
 - ㄹ. 왕위 쟁탈전을 벌이던 귀족들의 군사적 기반이 되었다.
- ① ㄱ, ㄴ ② ㄱ, ㄷ ③ ㄱ, ㄹ ④ ㄴ, ㄷ ⑤ ㄷ, ㄹ

102. (가)와 같은 상황이 전개되었던 시기에 (나)의 인물들이 속한 신분의 동향으로 적절한 것은? [3점](2611)

- (가) 용진주 도독 김현창은 아버지가 왕위에 오르지 못한 것을 이유로 반란을 일으키고 …… 여러 군현의 수령을 협박하였다. …… 복원경 등의 여러 성은 먼저 김현창의 역모를 알고 병사를 들어 스스로 지켰다.
- 삼국사기 -
- (나) 김운경이 빈공과에 처음으로 합격한 뒤에 소위 빈공자는 매월 특별 시험을 보아 그 이름을 발표하는데 …… 그 중 대표적인 사람은 …… 최치원, 최신지, 최승우 등이다.
- 삼국사기 -

- ① 집사부 시중으로서 권력을 장악하였다.
- ② 화백 회의의 일원으로서 국정에 참여하였다.
- ③ 성리학을 수용하여 불교의 폐단을 시정하려 하였다.
- ④ 학문적 식견을 바탕으로 전제 왕권을 뒷받침하였다.
- ⑤ 사회를 개혁하기 위해 호족 세력과 연계하기도 하였다.

103. (가), (나) 두 인물의 공통적 특징을 <보기>에서 모두 고른 것은?(30707)

- (가) 신라 사람으로 성은 김씨이고 …(중략)… 왕이라 자칭하고 사람들에게 이르기를 “이전에 신라가 당나라에 군사를 청하여 고구려를 격파하였기 때문에 옛 서울 평양은 오래되어서 풀만 무성하게 되었으니 내가 반드시 그 원수를 갚겠다.”라고 하였다.
- (나) 상주 가은현 사람으로 본래의 성은 이씨이며, 아버지는 아자개이니 농사로 자활하다가 후에 가업을 일으켜 장군이 되었다. …(중략)… “지금 내가 도읍을 완산(전주)에 정하고, 어찌 감히 의자왕의 쌓인 원통함을 씻지 아니하랴.”라고 하였다.

- < 보 기 >
- ㄱ. 녹읍과 식읍을 통해 대농장을 경영하였다.
 - ㄴ. 기존 체제를 타파하고 새로운 사회를 건설하고자 하였다.
 - ㄷ. 호장이나 부호장 출신으로 지방의 실질적 지배층이었다.
 - ㄹ. 지방의 행정권과 군사력을 장악하여 독자적 세력을 구축하였다.

① ㄱ, ㄴ ② ㄱ, ㄷ ③ ㄴ, ㄷ ④ ㄴ, ㄹ ⑤ ㄷ, ㄹ

104. 다음 인물의 일생에 대해 학생들이 발표한 견해 중 옳지 않은 것은? [3점] (363)

- 857년 서라벌에서 출생함.
- 12세 부친의 권유에 따라 당나라로 유학을 떠남.
- 18세 빈공과에 합격함.
- 25세 황소의 난이 일어나자 『토황소격문』을 지음.
- 29세 신라로 귀국함.
- 34세 대산군 태수로 부임함.
- 38세 진성여왕에게 시무책 10여 조를 건의함. 태수를 그만두고 유랑 생활을 시작함.
- 42세 가야산에 은거하며 뛰어난 문장과 저술을 남김.

- ① 미숙 : 왕위 쟁탈전이 전개되고, 지방 세력이 성장하던 시기에 활동했던 인물이야.
- ② 덕규 : 골품 제도에 의해 차별을 받았던 6두품 출신의 숙위 학생이었어.
- ③ 태영 : 시무책 10여 조가 받아들여지지 않자 관직을 버리고 은거를 하였지.
- ④ 민철 : 유학 이외의 다른 사상에 관심을 가져 불교나 도교에도 조예가 깊었지.
- ⑤ 혜경 : 뛰어난 문장가로 이름이 높았지만 그의 저작이 전해지지 않아 이를 확인할 수 없어.

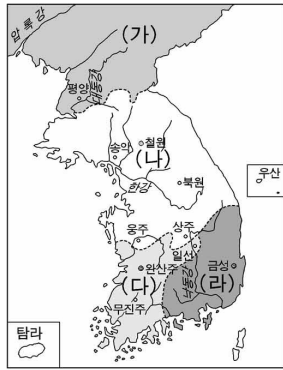
105. 다음은 신라 시대에 대한 두 학생의 대화이다. 이들의 대화 내용과 관련된 탐구 주제로 가장 적절한 것은? [2점]

인혜 : 그렇다면 귀족을 숙청하고 관료에게 토지를 준 조치는 녹읍을 폐지하기 위한 준비 작업이겠네. 상대등이나 진골 귀족들이 가만히 있었을까?
 인수 : 아니, 그럴 리가 있겠어. 계속 반발을 했지. 결국 경덕왕 때 다시 녹읍을 부활시켰거든.
 인혜 : 왕은 이제 힘이 없어진거야?
 인수 : 당장 그렇게 된 것은 아니지만 점차 왕의 권력이 약화되어 갔다고 할 수 있지.

- ① 신라의 골품 제도는 어떻게 변했을까?
- ② 신라의 농민들은 어떻게 농사를 지었을까?
- ③ 왕과 귀족간의 권력 관계는 어떻게 변했을까?
- ④ 신라 하대의 지방 세력은 어떻게 성장했을까?
- ⑤ 화백 회의에는 어떤 사람들이 참여했을까?

106. (356)

17. 지도에 보이는 나라들에 관한 설명으로 옳은 것을 <보기>에서 모두 고른 것은?



<보기>

- ㄱ. (가)는 일본과 경제·문화 교류를 가졌다.
- ㄴ. (나)는 우산국을 정벌하여 영토로 삼았다.
- ㄷ. (다)는 (라)와 동맹을 맺어 (나)를 견제했다.
- ㄹ. (라)에서는 농민 봉기가 빈발하고 지방 세력이 활거했다.

- ① ㄱ, ㄷ ② ㄱ, ㄹ ③ ㄴ, ㄷ ④ ㄴ, ㄹ ⑤ ㄷ, ㄹ

107. 다음 자료를 읽은 학생들의 추론으로 적절하지 않은 것은?(369)

- 발해 무왕 8년(726), 왕이 말하기를 “흑수말갈이 당나라에 벼슬을 청하면서 우리에게 알리지 않았으니, 이는 반드시 당나라와 우리를 앞뒤에서 치려는 것이다.”라고 하였다.
- 무왕 9년(727), 사신 고인의 등 24인을 일본에 파견하여 국서를 전했다.
- 신라 성덕왕 30년(731), 일본국의 병선 3백 척이 신라의 동쪽 변경을 습격했다. 왕이 군대를 보내 일본군을 물리쳤다.
- 성덕왕 32년(733), 발해가 당의 등주를 공격하였다. 당 현종이 신라에 원병을 청하자 왕은 병력을 출동시켜 발해의 남쪽 지방을 치게 했다.

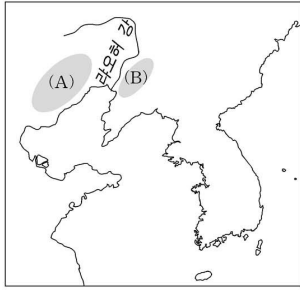
- ① 아영 - 당은 신라를 이용해 발해를 견제했어.
- ② 지원 - 발해는 일본과 연결하여 신라를 견제했어.
- ③ 태희 - 발해가 팽창하자 흑수말갈이 당에 접근했어.
- ④ 현준 - 발해는 여러 말갈족들을 복속시키고 요동으로 진출했어.
- ⑤ 윤구 - 당과 흑수말갈의 연결에 대응하여 발해는 군사 행동을 했어.

108. 다음과 같은 중국의 입장을 반박하기 위해 제시할 수 있는 자료로 가장 적절한 것은?(30707)

발해국은 당나라 시기 북방의 고루한 말갈족이 건립한 지방 민족 정권으로서 698년에 건국되었고 초기에는 진국이라 불렸다. 705년에 당 왕조에 귀속되었고, 713년에 발해국으로 책봉되었다. 발해국은 당 왕조의 봉건적 운영을 받아들이고, 용감한 근로 대중에 의하여 민족 경제를 발전시키고 찬란한 발해 문화를 창조하였으며, 중화 대통일의 걸음을 촉진시킨 바, 세상에서 해동성국이라 불렸다.
 -중국 흑룡강성, 「발해국 상경 용천부 유적 안내서」-

- ① 당의 관리로 재직한 발해인 명단
- ② 주변 국가들과의 교역로가 표시된 지도
- ③ 3성 6부를 근간으로 한 중앙 정치 조직도
- ④ 인안, 대흥 등 독자적 연호가 기록된 역사서
- ⑤ 주작대호가 표시된 상경 용천부의 평면도

109. 지도의 (A), (B) 지역을 답사하기 위해 사전에 조사할 내용을 옳게 짝지은 것은?(359)



	(A)	(B)
①	고조선 후기의 세형동검문화	발해의 건국 과정
②	부여의 성립과 발전	고려말 철령위 문제와 위화도 회군
③	4세기 백제의 해외 진출	고구려와 수·당의 전쟁
④	광개토왕대 고구려의 영역 확장	9세기 재당 신라인 거주 지역
⑤	발해 무왕대의 당나라 공격	광해군대의 중립외교와 병자호란

수학 능력 시험 기출 문제

110. 다음은 최근 일본의 중학교 교과서 「새로운 역사」에 실려 있는 한국 고대사 관련 내용과 한국측 반박에 대한 일본측 답변이다.

◦ 고구려는 한반도 남부의 신라와 백제를 압박하고 있었다. 백제는 야마토 정권에 구원을 간청하였다. 본래 일본 열도의 사람들은 철을 구하려고 한반도 남부와 교류하고 있었다. 이에 4세기 후반 야마토 조정은 바다를 건너 조선에 군대를 보냈다. 야마토 조정은 한반도 남부에 임나(任那;가야)라는 지역에 거점을 둔 것으로 여겨졌다.
- 새로운 역사 후소샤 -

◦ 본 기술은 ‘임나 일본부’를 명기하고 있지 않고, 또한 ‘거점을 둔 것으로 여겨진다’고 하여 단정적인 표현을 피하고 있다. 학설 상황에 비추어 명백한 오류라고 할 수 없으며 제도상 정정을 요구할 수 없다.
- 일본 측 답변 -

이러한 일본측 답변의 타당성을 검토하기 위해 수행해야 할 과제로 적절하지 않은 것은?

- ① 가야 역사의 독자적 발전 과정을 탐구한다.
- ② 4세기 당시 고대 일본 야마토 정권의 역사를 탐구한다.
- ③ 단양 적성비를 통해 신라의 영토 확장 과정을 탐구한다.
- ④ 칠지도를 중심으로 백제와 일본의 외교 관계를 탐구한다.
- ⑤ 광개토 대왕릉 비문에 적혀 있는 고구려와 왜의 관계를 탐구한다.

111. 다음 두 자료를 모두 활용한 탐구 학습의 주제로 가장 적절한 것은?(07)

- 시조 추모왕[주몽]은 천제(天帝)의 아들이며 하백의 외손이었다. …(중략)… 광개토 대왕의 치세가 되니 연호를 영락이라 했으며, 은택이 하늘에 미치고 군센 위엄이 사방에 떨쳤다. …(중략)… 백제와 신라는 예전부터 우리의 속민으로서 조공을 바쳐왔다. -「광개토 대왕릉비」-
- 당 고조가 말하기를, “모름지기 이름과 실체는 부합해야 한다. 고구려는 중국의 신하라 일컬으면서도 끝내 우리와 맞서려 했으니 어찌 신하라고 할 수 있겠는가? 나는 천하가 평안한 것에 만족할 뿐, 군이 저들을 복속시켜 스스로를 높일 생각이 없다.”고 하였다. -『구당서』-

- ① 삼국의 항쟁과 복속민 지배 방식
- ② 동아시아 대외 교역망의 성립과 변화
- ③ 고구려와 수·당 간 전쟁의 전개 과정
- ④ 건국 설화를 통해 본 삼국의 성립 과정
- ⑤ 고구려인의 천하 인식과 조공 관계의 실상

다음을 읽고 물음에 답하시오.

◦ 시조의 성은 고씨인데, 기골과 모양이 뛰어나고 기이했다. 일곱 살에 의연함이 더하였고, 스스로 활을 만들어 쏘니 백발백중이었다. ㉠의 속어에 활 잘 쏘는 것을 주몽이라 하니, 이로써 이름을 삼았다.

◦ 개로왕이 북위에 사신을 보내 말하였다. “우리나라는 고구려와 더불어 근원이 ㉠에서 나왔다. 전에는 고구려가 옛 우의를 굳게 지키더니, 점차 승냥이와 같은 추악한 무리가 되어 ㉡ 백제를 압박하고 외교를 방해하였다. 이로 인해 우리는 재물과 힘이 다하고 위례성이 함락될 위협에 처하였다.”

112. ㉠에 관한 설명으로 옳은 것은?(08)

- ① 무천이라는 제천 행사를 거행하고, 책화의 풍습이 있었다.
- ② 어물과 소금 등 해산물이 풍부하고, 민며느리제 풍습이 있었다.
- ③ 철이 많이 생산되어 화폐처럼 사용하고 주변 나라에 공급하였다.
- ④ 왕이 죽으면 많은 사람을 겨문거리와 함께 묻는 순장을 행하였다.
- ⑤ 한(漢) 나라의 침공으로 멸망하였고, 그 유민 일부가 한반도 지역으로 이주하였다.

113. 밑줄 친 ㉢처럼 고구려가 대외 정책을 추진하게 된 역사적 배경으로 가장 적절한 것은?(08)

- ① 동성왕 때 신라와 동맹을 강화하여 고구려에 대항하였다.
- ② 진흥왕 때 백제 군사와 연합하여 한강 유역을 점령하였다.
- ③ 영양왕 때 수나라 문제와 양제가 이끄는 대군을 거듭 물리쳤다.
- ④ 무령왕 때 중국 양나라와 교섭하면서 옛 영토 회복의 기반을 다졌다.
- ⑤ 근초고왕 때 고국원왕의 군대를 물리치고 황해도 지역

에서 고구려와 대치하였다.

114. 지도는 가야의 세력 범위를 나타낸 것이다. A, B 두 나라에 대한 설명으로 옳은 것은? [3점](07)



- ① A는 낙랑군과 왜를 연결하는 국제 교역을 주도하였다.
- ② A를 중심으로 한 연맹 왕국은 중앙 집권 국가로 발전하였다.
- ③ B는 6세기 초 국제적 고립에서 벗어나려고 신라와 결혼 동맹을 맺었다.
- ④ 고구려군의 공격을 받은 후 연맹의 중심이 B에서 A로 바뀌었다.
- ⑤ A는 백제에게, B는 신라에게 각각 멸망당하였다.

115. 자료의 내용과 관련된 사회 동향과 거리가 먼 것은? [2점]

◦ 진평왕은 고구려가 여러 번 국경을 침범하자 수나라의 도움을 얻어 고구려를 치려고 원광에게 군사를 요청하는 글을 지으라고 했다. 원광이 “자기가 살기 위해 남을 멸망시키는 것은 승려가 할 일이 아니나, 제가 대왕의 땅에 살면서 대왕의 물과 풀을 먹고 있사오니 감히 명령을 따르지 않을 수 있겠습니까?” 하고 지어 올렸다.
-삼국사기-

◦ 조정에서 왕에게 아뢰었다. “우리 나라에 불교가 들어온 지 비록 백여 년이 되었으나 규범이 없습니다. 통괄하여 다스리지 않으면 바로 잡을 수 없습니다.” 왕은 자장을 대국통으로 삼아 승려의 모든 규범을 맡아 보게 하였다.
-삼국유사-

- ① 삼국 간에 영토 확장을 위한 전쟁이 치열해졌다.
- ② 불교 교단과 정치 권력 간에 긴밀한 관계가 형성되었다.
- ③ 새로운 사회 윤리와 국가 정신으로 세속 5계가 정해졌다.
- ④ 독서 삼품과를 설치하여 6두품 지식인이 많이 등용되었다.
- ⑤ 대규모 호국 사찰이 지어지고 황룡사 9층 목탑이 건립되었다.

116. 다음 자료와 관련된 설명으로 옳지 않은 것은? [3점](06)

진평왕 30년, 왕은 ㉠고구려가 빈번하게 강역을 침범하는 것을 근심하다가 수나라에 병사를 청하여 고구려를 정벌하고자 하였다. 이에 ㉡원광에게 군사를 청하는 글을 짓도록 명하니, 원광이 “자기가 살려고 남을 죽이도록 하는 것은 승려로서 할 일이 아니나, 제가 대왕의 토지에서 살고 대왕의 물과 풀을 먹으면서, 어찌 감히 명령을 좇지 않겠습니까?”라고 하며, 곧 글을 지어 바쳤다. …(중략)… 33년에 왕이 수나라에 사신을 보내어 표문을 바치고 출병을 청하니, ㉢수나라 양제가 이를 받아들이고 군사를 일으켰다.
-『삼국사기』 신라본기-

- ① 호국을 강조하는 신라 불교의 특색이 반영되어 있다.
- ② 당시 신라는 백제와 동맹을 맺어 고구려의 남진에 대처하고 있었다.
- ③ ㉠-고구려는 한강 유역을 되찾기 위해 신라를 자주 공격하였다.
- ④ ㉡-원광은 세속오계를 지어 화랑도의 행동 규범을 제시하였다.
- ⑤ ㉢-고구려는 살수에서 대승을 거두고, 수나라의 침략을 격퇴하였다.

117. 다음은 신라 어느 시기의 사실을 말해 주는 자료이다. 이 시기에 일어난 사실이 아닌 것은?

◦ 국내 여러 주군(州郡)이 공부(貢賦)를 납부하지 않으므로 국고가 고갈되어 국용(國用)이 궁핍해졌다. 이에 왕이 사자를 보내어 독촉하니 도적들이 들고 일어났다. 이 때 원종과 애노 등이 사벌주를 근거로 하여 반란을 일으켰다.
-삼국사기-

◦ 지금 군읍(郡邑)은 모두 도적의 소굴이 되었고, 산천은 모두 전장(戰場)이 되었으니 어찌 하늘의 재앙이 우리 해동에만 흘러드는 것입니까?
-동문선-

- ① 지방에서 성주 또는 장군이라 자칭한 호족 세력이 일어나 신라에 저항하였다.
- ② 진골 귀족들이 무열왕 직계의 전제 왕권에 대항하여 반란을 일으켰다.
- ③ 궁예가 군대를 일으켜 강원도와 경기도 일대를 차지하였다.
- ④ 최치원이 당에서 귀국하여 시무책 10여 조를 올렸다.
- ⑤ 과중한 수취로 몰락한 농민들이 난을 일으켰다.

118. 다음은 우리나라 역대 사회정책과 제도들을 설명한 것이다.

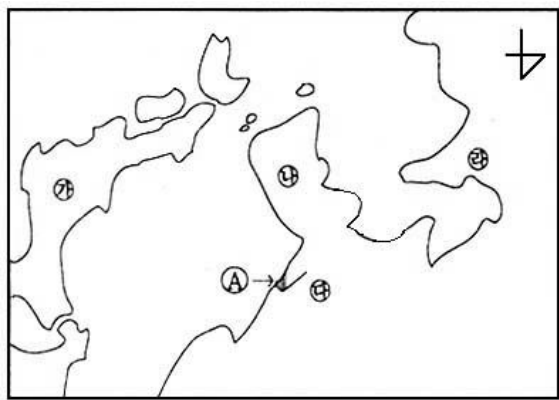
○ 고구려에서는 빈민 구제를 위한 대책으로 진대법을 마련하였다
 ○ 고려에서는 평상시 곡물을 비축하였다가 흉년에 빈민을 구제하는 기관으로서 의창을 두었다.
 ○ 조선 전기에는 의창, 상평창 등이 설치되었고, 민간에서는 사창을 운영하기도 하였다.
 ○ 대원군은 문란해진 삼정을 바로잡기 위해 수령과 토호의 농간이 심했던 환곡제를 사창제로 바꾸었다.

- 위의 정책과 제도에 관한 설명으로 가장 바른 것은?
- ① 농민생활의 안정을 추구했다는 점에서 사회보험적 성격이 강하다.
 - ② 각 시대마다 국가의 구휼제도가 불완전하여서 민간의 구휼기구가 크게 발전하였다.
 - ③ 성리학의 민본사상에서 나온 것이라는 공통성을 갖고 있었다.
 - ④ 농민생활의 안정을 목표로 했지만 농민들의 어려움을 근본적으로 해결할 수는 없었다.
 - ⑤ 근현대의 공적부조 제도와는 성격이 다른 것이었다.

119. 우리 나라 고대 연맹왕국들이 집권국가로서는 한계를 가지고 있었다는 점을 뒷받침해 주는 사실과 거리가 가장 먼 것은?

- ① 부여에서 가(加)들은 수해나 한해를 입어 오곡이 익지 않으면 왕에게 그 책임을 묻기도 하였다.
- ② 고구려에는 왕 아래 대가들이 있어 사자, 조의, 선인 등의 관리를 각자 거느리고 있었다.
- ③ 신라의 골품제도는 각 족장세력을 통합 편제한 것으로, 그 세력의 정도에 따라 4, 5, 6 두품의 신분이 주어졌다.
- ④ 가야연맹은 농경문화를 바탕으로 하면서, 철의 생산과 중계 무역을 통하여 발전하였다.
- ⑤ 삼국에는 제가 회의, 정사암 회의, 화백 회의 같은 합의제가 있어 국가의 중대사를 결정하였다.

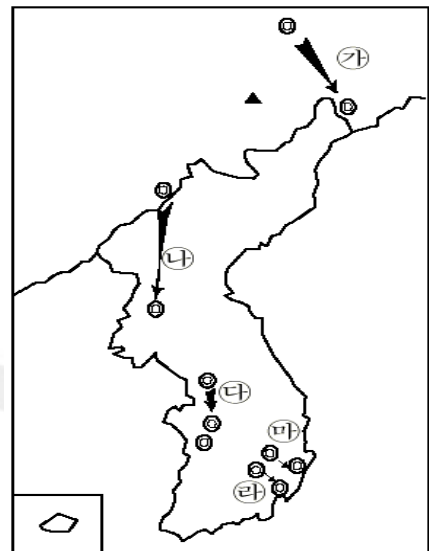
※ 요즈음 국내외에서는 환동해(環東海) 경제권 개발 문제가 활발하게 논의되고 있다. 지도를 거꾸로 놓고 보면, 동해가 동아시아의 '지중해(地中海)'에 해당됨을 쉽게 알 수 있다. 다음 지도를 보고 물음에 답하시오.



120. 8세기부터 10세기초까지 동아시아 각국 사이에 전개된 국제관계를 바르게 설명한 것은?

- ① 나와 바는 가를 공격하기 위하여 협력하였다.
- ② 가와 바는 다를 견제하기 위하여 친선을 유지하였다.
- ③ 가와 바는 다를 견제하기 위하여 교류하였다.
- ④ 가와 바는 다를 공격하기 위하여 동맹을 맺었다.
- ⑤ 나와 바는 가를 고립시키기 위하여 연합하였다.

121. 다음 지도는 우리 나라 고대 각국의 수도, 또는 그에 버금가는 지역 중심지를 표시한 것이다. 중심지 이동의 원인과 그 실행 여부를 바르게 설명한 것은?



- ① 가 : 흑수 말갈과의 전쟁에서 패배하여 이동
- ② 나 : 남하 정책과 서해로의 적극 진출을 위한 천도
- ③ 다 : 인구 증가로 인한 압박에 따라 평야지대로 이동
- ④ 라 : 소국 사이의 상호 대결에 의한 연맹장 교체
- ⑤ 바 : 풍수 지리설에 따른 명당 지리를 추구하여 천도

122. 다음 지도는 우리 고대 국가들의 정복 활동과 영토 확장을 나타낸 것이다. 역사적 상황에 부합되는 것을 <보기>에서 모두 고르면?

